


# Sample Paper

MEDICAL



## Aakash

Medical | IIT-JEE | Foundations



### Class XI Studying Moving to Class XII Physics, Chemistry & Biology

#### INSTRUCTIONS FOR CANDIDATE / વિદ્યાર્થીઓ માટે સૂચનાઓ

- Duration of Test is 1 hr.  
પરીક્ષાની અવધિ 1 કલાક છે.
- The Test Booklet consists of 40 questions. The maximum marks are 90. There is **no negative marking** for wrong answer.  
આ પ્રશ્ન-પુસ્તિકામાં 40 પ્રશ્નો છે. મહત્તમ ગુણ 90 છે. ખોટાં ઉત્તર માટે કોઈ ઋણાત્મક અંકન નથી.
- Pattern of the questions are as under:  
પ્રશ્નોનું સ્વરૂપ નીચે મુજબ છે:
  - The question paper consists of three parts *i.e.*, Physics, Chemistry and Biology . Each part has **two sections**.  
આ પ્રશ્નપત્રના ત્રણ ભાગ છે : ભૌતિકશાસ્ત્ર, રસાયણશાસ્ત્ર અને જીવ વિજ્ઞાન દરેક ભાગના બે વિભાગો છે.
  - Section-I:** This section contains 35 multiple choice questions, which have **only one** correct answer. Each question carries **+2 marks** for correct answer.  
વિભાગ-I: આ વિભાગમાં 35 બહુવૈકલ્પિક પ્રશ્નો છે. જેનો ફક્ત એક જ ઉત્તર સાચો છે. પ્રત્યેક પ્રશ્નના સાચા ઉત્તર માટે **+2 ગુણ** નિર્ધારિત છે.
  - Section-II:** This section contains 5 multiple choice questions, in which **one or more than one** choice(s) is(are) correct. Each question carries **+4 marks** for correct answer.  
વિભાગ-II: આ વિભાગમાં 5 બહુવૈકલ્પિક પ્રશ્નો છે. જેમાં એક અથવા એક કરતાં વધુ ઉત્તરો સાચા છે. પ્રત્યેક પ્રશ્નના સાચા ઉત્તર માટે **+4 ગુણ** નિર્ધારિત છે.



# Aakash National Talent Hunt Exam -2026

## Sample Paper

(Class XI Studying Moving to Class XII)

(The questions given in sample paper are indicative of the level and pattern of questions that will be asked in ANTHE-2026)

(નમૂનાના પેપરમાં આપેલા પ્રશ્નો એ ANTHE-2026 માં પૂછવામાં આવનાર પ્રશ્નોના સ્તર અને પેટર્નના સૂચક છે)

Time : 1 Hour

MM : 90

### PHYSICS

#### SECTION (વિભાગ)-I

#### SINGLE CORRECT ANSWER TYPE (એક સાચો ઉત્તર ધરાવતા પ્રશ્નો)

This section contains 9 multiple choice questions. Each question has 4 choices (1), (2), (3) and (4) out of which **ONLY ONE** choice is correct.

આ વિભાગમાં 9 બહુવિકલ્પિય પ્રશ્નો છે. પ્રત્યેક પ્રશ્ન માટે 4 વિકલ્પો (1), (2), (3) અને (4) આપેલાં છે, જેમાંથી માત્ર એક જ વિકલ્પ સાચો છે.

1. Two objects A and B are thrown with velocities  $\vec{u}_A = 4\hat{i} + 5\hat{j}$  and  $\vec{u}_B = \hat{i} + \hat{j}$  respectively from same point on horizontal ground. The magnitude of relative velocity of object B w.r.t. object A at any instant of time when both objects are in air, will be  
બે પદાર્થો A અને B ને વેગ  $\vec{u}_A = 4\hat{i} + 5\hat{j}$  અને  $\vec{u}_B = \hat{i} + \hat{j}$  સાથે પ્રક્ષિપ્ત કરવામાં આવે છે. સમાન સમક્ષિતિજ બિંદુ પરથી જ્યારે બંને પદાર્થ હવામાં હોય ત્યારે કોઈપણ ક્ષણે A ની સાપેક્ષ વેગ B ના વેગનો મૂલ્ય શોધો.  
(1)  $3 \text{ m s}^{-1}$  (2)  $4 \text{ m s}^{-1}$   
(3)  $5 \text{ m s}^{-1}$  (4)  $6 \text{ m s}^{-1}$
2. If a particle is moving on a curved path with constant speed, then  
ધારો કે વક્ર માર્ગ પર કોઈ પદાર્થ અચળ ઝડપથી ગતિ કરે તો  
(1) Velocity remains constant (2) Body is said to be under acceleration  
વેગ અચળ રહે પદાર્થ પ્રવેગિત કરે તેમ કહેવાય  
(3) Body remains unaccelerated (4) Body is moving with decreasing velocity  
પદાર્થ અપ્રવેગિત રહેશે પદાર્થ ઘટતા વેગ સાથે ગતિ કરે
3. The position of a particle is expressed as  $\vec{r} = (2t^2\hat{i} + 6t\hat{j})\text{m}$ , where  $t$  is time in second. Angle made by the direction of velocity with x-axis at time  $t = 2$  second is  
કણનો સ્થાન સદિશ  $\vec{r} = (2t^2\hat{i} + 6t\hat{j})\text{m}$ , વડે દર્શાવવામાં આવે છે. જ્યાં  $t$  એ સમય સેકન્ડમાં છે તો  $t = 2$  સેકન્ડે વેગની દિશા x-અક્ષ સાથે કેટલો ખૂણો બનાવે?  
(1)  $45^\circ$  (2)  $30^\circ$   
(3)  $53^\circ$  (4)  $37^\circ$

4. A force  $F = -4\hat{j}$  acts at the origin of a coordinate system. The torque of this force about the point  $(2, -2)$  is કાર્તેઝિયન પદ્ધતિ પ્રમાણે ઉગમબિંદુ પર, બળ  $F = -4\hat{j}$  લાગે છે તો  $(2, -2)$  બિંદુની સાપેક્ષે બળ દ્વારા પેદા થતું ટોર્ક શોધો.

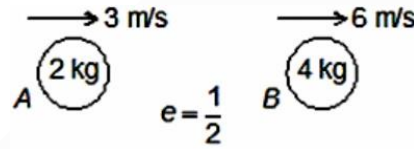
- (1)  $8\hat{k}$  (2)  $-8(\hat{j} + \hat{k})$   
 (3)  $8(\hat{j} + \hat{k})$  (4)  $-8\hat{k}$

5. Two rings have moment of inertia in the ratio of 2 : 1 about the axis passing through the centre and perpendicular to the plane of ring. Their diameters are in the ratio of 2 : 1. The ratio of their masses will be બે રિંગની કેન્દ્રમાંથી પસાર થતી અને સમતલની લંબ અક્ષની સાપેક્ષે જડત્વની ચાકમાત્રાનો ગુણોત્તર 2 : 1 છે. ધારો કે તેમના વ્યાસનો ગુણોત્તર 2 : 1 હોય. તો તેમના દળનો ગુણોત્તર શોધો.

- (1) 2 : 1 (2) 1 : 2  
 (3) 1 : 4 (4) 1 : 1

6. If coefficient of restitution between two balls is  $\frac{1}{2}$  then which of the following statement is correct for given figure?

બે બોલ વચ્ચે રેસ્ટિટ્યુશન ગુણાંક  $\frac{1}{2}$  છે તો આપેલ આકૃતિ મુજબ કયું વિધાન સાચું છે?



- (1) Velocity of A after collision is 4 m/s leftward  
અથડામણ પછી A નો વેગ ડાબી બાજુ 4 m/s છે
- (2) Collision will not take place  
અથડામણ થશે નહીં
- (3) Velocity of A after collision is 4 m/s rightward  
અથડામણ પછી A નો વેગ જમણી બાજુ 4 m/s છે
- (4) Velocity of B after collision is  $\frac{11}{2}$  m/s rightward  
અથડામણ પછી B નો વેગ જમણી બાજુ  $\frac{11}{2}$  m/s છે

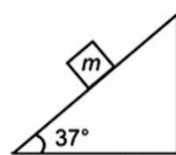
7. The force exerted by the floor of an elevator on the foot of a person, standing there is more than the weight of the person, if the elevator is કોઈ એલિવેટર (લિફ્ટ)ની સપાટી વડે માણસના પગ પર લાગતું બળ તેના વજન કરતાં વધારે લાગતું હોય તો એલિવેટર,

- (1) Going up and slowing down  
ઉપર જાય છે અને ધીમી પડે
- (2) Going down and slowing down  
નીચે જાય છે અને ધીમી પડે
- (3) Going up and speeding up  
ઉપર જાય છે અને ઝડપી બને
- (4) Both (2) and (3)  
(2) અને (3) બંને

8. A block of mass  $m$  is sliding down on a fixed smooth inclined plane as shown in figure. The acceleration of the block is (Take  $g = 10 \text{ m/s}^2$ )

આકૃતિમાં દર્શાવ્યા મુજબ  $m$  દળનો બ્લોક ઢોળાવ સપાટી પરથી નીચે તરફ સરકે છે. તો આ બ્લોકનો પ્રવેગ શોધો.

( $g = 10 \text{ m/s}^2$  ધારો)



- (1)  $6 \text{ m/s}^2$  (2)  $10 \text{ m/s}^2$   
 (3)  $8 \text{ m/s}^2$  (4)  $5 \text{ m/s}^2$

9. A bomb at rest explodes into 3 parts of masses in the ratio 1 : 1 : 2. The velocity of the two parts of equal masses, immediately after explosion are  $-2v\hat{i}$  and  $v\hat{j}$  respectively. Then velocity of the third part is

સ્થિર અવસ્થામાં પડેલો એક બોમ્બ 3 ભાગમાં વિભાજિત થાય છે તેમના દળનો ગુણોત્તર 1 : 1 : 2 છે. સમાન દળ ધરાવતા ભાગનો વેગ વિસ્ફોટ બાદ, તરત જ અનુક્રમે  $-2v\hat{i}$  અને  $v\hat{j}$  બને છે તો ત્રીજા ભાગનો વેગ શોધો.

- (1)  $2v\hat{i} - v\hat{j}$  (2)  $-2v\hat{i} - v\hat{j}$   
 (3)  $-v\hat{i} + \frac{v}{2}\hat{j}$  (4)  $v\hat{i} - \frac{v}{2}\hat{j}$

### SECTION (વિભાગ)-II

**ONE OR MORE THAN ONE CORRECT ANSWER TYPE (એક અથવા એકથી વધુ સાચા ઉત્તરો ધરાવતા પ્રશ્નો)**

This section contains 1 multiple choice question, which has 4 choices (1), (2), (3) and (4) out of which **ONE OR MORE THAN ONE** choice(s) is(are) correct.

આ વિભાગમાં 1 બહુવિકલ્પિય પ્રશ્ન છે, જેમાં 4 વિકલ્પો (1), (2), (3) અને (4) આપેલાં છે, જેમાંથી એક અથવા એકથી વધારે વિકલ્પો સાચાં છે.

10. The dimensional formula of work is same as that of  
કાર્યને સમાન પારિમાણિક સૂત્ર કઈ ભૌતિક રાશી ધરાવે છે?

- (1) Energy (2) Power  
ઊર્જા પાવર  
(3) Torque (4) Impulse  
ટોર્ક આઘાત

## CHEMISTRY

### SECTION (વિભાગ)-I

**SINGLE CORRECT ANSWER TYPE (એક સાચો ઉત્તર ધરાવતા પ્રશ્નો)**

This section contains 9 multiple choice questions. Each question has 4 choices (1), (2), (3) and (4) out of which **ONLY ONE** choice is correct.

આ વિભાગમાં 9 બહુવિકલ્પિય પ્રશ્નો છે. પ્રત્યેક પ્રશ્ન માટે 4 વિકલ્પો (1), (2), (3) અને (4) આપેલાં છે, જેમાંથી માત્ર એક જ વિકલ્પ સાચો છે.

11. If the mole fraction of acetone in ethyl alcohol is 0.3, then the molality of acetone in the solution is  
ઇથાઇલ આલ્કોહોલમાં એસિટોનનાં મોલ અંશ 0.3 છે, તો દ્રાવણમાં એસિટોનની મોલાલિટી કેટલી થશે?
- (1) 4.5 m (2) 6.2 m  
(3) 8.3 m (4) 9.3 m
12. Volume of CO<sub>2</sub> liberated at STP on the complete combustion of 80 g of methane gas in presence of excess of O<sub>2</sub> gas is  
STP એ 80 g મિથેનનું સંપૂર્ણ દહન વધુ પડતાં O<sub>2</sub> ની હાજરીમાં કરવા માટે CO<sub>2</sub> વાયુકોષ્ઠ સુધીનું કેટલું કદ મળશે?
- (1) 224 L (2) 56 L  
(3) 112 L (4) 22.4 L

13. If uncertainty in momentum is double of uncertainty in position then uncertainty in position will be  
વેગમાનની અનિશ્ચિતતા એ સ્થાનની અનિશ્ચિતતા કરતાં બમણી હોય તો સ્થાનની અનિશ્ચિતતાનું મૂલ્ય કેટલું થાય?

(1)  $\sqrt{\frac{h}{2\pi}}$  (2)  $\frac{1}{2}\sqrt{\frac{h}{2\pi}}$   
(3)  $\sqrt{\frac{h}{\pi}}$  (4)  $\frac{h}{2\sqrt{2\pi}}$

14. The inert gas which has highest value of electron gain enthalpy is  
નીચેના કયા ઉમદાવાયુની મહત્તમ ઇલેક્ટ્રોન પ્રાપ્તિ એન્થાલ્પી હાજર હશે?

(1) Xe (2) Rn  
(3) Ar (4) Ne

15. The correct order of ionic radii for the following species is  
નીચેના કયા સ્પીસીઝ માટે આયનીય ત્રિજ્યાનો ક્રમ સાચો છે?

(1)  $H^+ > H > H^-$  (2)  $N^{3-} > O^{2-} > F^-$   
(3)  $Na^+ > F^- > O^{2-}$  (4)  $Mg^{2+} > Al^{3+} > N^{3-}$

16. Which among the following is an example of odd-electron molecule?  
નીચે આપેલા કયા વિકલ્પમાં એકી ઇલેક્ટ્રોન અણુ આવેલ છે?

(1) CO (2) NO  
(3) CH<sub>4</sub> (4) H<sub>2</sub>

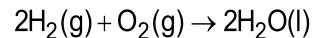
17. Which of the following option represents the correct bond order?  
નીચેના કયા વિકલ્પમાં સાચા બંધક્રમાંક હાજર છે?

(1)  $O_2 < N_2^+ < C_2^{2-}$  (2)  $C_2^{2-} < O_2 < N_2^+$   
(3)  $N_2^+ < O_2 < C_2^{2-}$  (4)  $N_2^+ < C_2^{2-} < O_2$

18. The standard free energy change ( $\Delta G^\circ$ ) is related to K (equilibrium constant) as  
પ્રમાણિત મુક્ત ઊર્જા ફેરફાર ( $\Delta G^\circ$ ) અને સંતુલન અચળાંક K નો સાચો સંબંધ કયો છે?

(1)  $\Delta G^\circ = -2.303 RT \log K$  (2)  $\Delta G^\circ = 2.303 RT \log K$   
(3)  $\Delta G^\circ = RT \log K$  (4)  $\Delta G^\circ = -RT \log K$

19. The difference between  $\Delta H$  and  $\Delta U$  for the following reaction at 25°C is  
નીચે આપેલ પ્રક્રિયાનો 25°C તાપમાને  $\Delta H$  અને  $\Delta U$  વચ્ચેનો ફેરફાર કયો સાચો છે.



(1) -298R (2) -894R  
(3) +894R (4) +298R

## SECTION (વિભાગ)-II

**ONE OR MORE THAN ONE CORRECT ANSWER TYPE (એક અથવા એકથી વધુ સાચા ઉત્તરો ધરાવતા પ્રશ્નો)**

This section contains 1 multiple choice question, which has 4 choices (1), (2), (3) and (4) out of which **ONE OR MORE THAN ONE** choice(s) is(are) correct.

આ વિભાગમાં 1 બહુવિકલ્પિય પ્રશ્ન છે, જેમાં 4 વિકલ્પો (1), (2), (3) અને (4) આપેલાં છે, જેમાંથી એક અથવા એકથી વધારે વિકલ્પો સાચાં છે.

20. Identify the orbital(s) with same number of radial nodes as that of orbital 4d.

નીચેના વિકલ્પોમાંથી 4d કક્ષક જેટલા રેડીયલ નોડ ધરાવતી કઈ કક્ષક છે?

- |        |        |
|--------|--------|
| (1) 3p | (2) 4f |
| (3) 2s | (4) 5f |

**BIOLOGY**

## SECTION (વિભાગ)-I

**SINGLE CORRECT ANSWER TYPE (એક સાચો ઉત્તર ધરાવતા પ્રશ્નો)**

This section contains 17 multiple choice questions. Each question has 4 choices (1), (2), (3) and (4) out of which **ONLY ONE** choice is correct.

આ વિભાગમાં 17 બહુવિકલ્પિય પ્રશ્નો છે. પ્રત્યેક પ્રશ્ન માટે 4 વિકલ્પો (1), (2), (3) અને (4) આપેલાં છે, જેમાંથી માત્ર એક જ વિકલ્પ સાચો છે.

21. Which structure is absolutely necessary for biological activity of protein molecule and is also involved in forming active site of an enzyme?

આપેલમાંથી કયું બંધારણ પ્રોટીનની જૈવિક પ્રક્રિયા માટે જરૂરી છે અને ઉત્સેચકના સક્રિય સ્થાન માટે પણ જરૂરી છે.

- |   |  |
|---|--|
| (1) Alpha-helix<br>આલ્ફા-હેલીક્સ        | (2) Beta pleated sheet<br>બીટા પ્લીટેડ શીટ |
| (3) Tertiary structure<br>તૃતીયક બંધારણ | (4) Primary structure<br>પ્રાથમિક બંધારણ   |

22. How much CO<sub>2</sub> is delivered by 5 L of deoxygenated blood to alveoli in an adult human, under normal physiological conditions?

સામાન્ય દેહધાર્મિક પરિસ્થિતિમાં, 5 L ઓક્સિજન વિહીન રૂધિરમાંથી કેટલું CO<sub>2</sub> વાયુકોષ્ઠ સુધી વહન પામે છે?

- |            |            |
|------------|------------|
| (1) 250 mL | (2) 200 mL |
| (3) 750 mL | (4) 400 mL |

23. Select the **correct** set of structures that are not supported by incomplete cartilaginous rings.

આપેલામાંથી કયા બંધારણનો સમૂહ અપૂર્ણ કાર્સિજમય કડીઓ દ્વારા રક્ષણ પામેલ નથી?

- |   |   |
|---|---|
| (1) Initial bronchioles, trachea<br>પ્રારંભિક શ્વાસવાહિકા, શ્વાસનળી | (2) Primary bronchi, secondary bronchi<br>પ્રાથમિક શ્વાસવાહિકા, દ્વિતીય શ્વાસવાહિકા |
| (3) Terminal bronchioles, alveoli<br>અંતિમ શ્વાસવાહિકા, વાયુકોષ્ઠ   | (4) Initial bronchioles, alveoli<br>પ્રાથમિક શ્વાસવાહિકા, વાયુકોષ્ઠ                 |

24. Pulmonary artery that carries deoxygenated blood to the lung arises from  
ઓક્સિજન વિહિન રૂધિરનું ફેફસા સુધી પરિવહન કરાવતી કુખ્કુસીય ધમની શેમાંથી ઉદ્ભવે છે?
- (1) Right atrium (2) Left ventricle  
જમણા કર્ણક ડાબા ક્ષેપક
- (3) Right ventricle (4) Left atrium  
જમણા ક્ષેપક ડાબા કર્ણક
25. Hepatic portal vein carries blood from \_\_\_\_\_ to the \_\_\_\_\_ before it is delivered to the systemic circulation. Choose the **correct** option to fill the blanks respectively.  
યકૃત નિવાહિકી શિરા રૂધિરને દૈહિક પરિવહનમાં ઠાલવતા પહેલા \_\_\_\_\_ માંથી \_\_\_\_\_ માં લાવે છે.  
સાચો વિકલ્પ પસંદ કરી ખાલી જગ્યા પુરો.
- (1) Liver, Intestine (2) Intestine, Liver  
યકૃત, આંતરડા આંતરડા, યકૃત
- (3) Kidney, Liver (4) Liver, Kidney  
મૂત્રપિંડ, યકૃત યકૃત, મૂત્રપિંડ
26. Number of nephrons present in both kidneys of a human is nearly  
માનવીની બંને મૂત્રપિંડમાં કુલ કેટલા ઉત્સર્ગ એકમ આવેલા છે.
- (1) 1 million (2) 2 million  
1 મિલિયન 2 મિલિયન
- (3) 3 million (4) 4 million  
3 મિલિયન 4 મિલિયન
27. Which of the following parts of nephron are situated in the cortical region of the kidney?  
આપેલામાંથી ઉત્સર્ગ એકમનો કયો ભાગ મૂત્રપિંડના બાહ્યક વિસ્તારમાં આવેલ છે?
- (1) Malpighian corpuscles, PCT and DCT (2) PCT and Loop of Henle  
માલ્પીઘીયન કણ, PCT અને DCT PCT અને હેન્લેનો પાશ
- (3) DCT and Loop of Henle (4) Loop of Henle only  
DCT અને હેન્લેનો પાશ માત્ર હેન્લેનો પાશ
28. The flat bone of axial skeleton lying on the ventral midline of thorax is  
ઉરસના મધ્યવક્ષમાં આવેલ અક્ષીય કંકાલતંત્રનું ચપટું અસ્થિ છે.
- (1) Ribs (2) Sternum  
પાંસળીઓ ઉરોસ્થિ
- (3) Clavicle (4) Hyoid  
અક્ષક હાયોઇડ
29. In the middle of the anisotropic band, the thick filaments are held together by a thin fibrous membrane called  
એનઆઇસોટ્રોપિક બિંબની વચ્ચે જાડા તંતુઓ કયા પાતળા તંતુમય પટલ વડે જોડાય છે?
- (1) 'I' band (2) 'M' line  
'I' બિંબ 'M' રેખા
- (3) 'H' zone (4) 'Z' line  
'H' પ્રદેશ 'Z' રેખા

30. Algal cell wall does **not** have  
લીલની કોષદીવાલ \_\_\_\_\_ ધરાવતી નથી.
- |                             |   |
|-----------------------------|---|
| (1) Chitin<br>કાઇટિન        | (2) Cellulose<br>સેલ્યુલોઝ                  |
| (3) Galactans<br>ગેલેક્ટન્સ | (4) Calcium carbonate<br>કેલ્શિયમ કાર્બોનેટ |
31. The **correct** sequence of different phases of cell cycle is  
કોષચક્રના વિવિધ તબક્કાઓનો સાચો ક્રમ \_\_\_\_\_ છે.
- |  |  |
|--|--|
| (1) G <sub>1</sub> , M, G <sub>2</sub> , S | (2) G <sub>1</sub> , S, G <sub>2</sub> , M |
| (3) G <sub>2</sub> , S, G <sub>1</sub> , M | (4) M, S, G <sub>1</sub> , G <sub>2</sub>  |
32. Lichens are symbiotic association between  
લાઇકેન્સ એ \_\_\_\_\_ વચ્ચેનું સહજીવન છે.
- |  |  |
|--|--|
| (1) Algae and Fungi<br>લીલ અને ફૂગ     | (2) Viruses and Fungi<br>વાયરસ અને ફૂગ       |
| (3) Algae and Viruses<br>લીલ અને વાયરસ | (4) Bacteria and Algae<br>બેક્ટેરિયા અને લીલ |
33. Bilateral symmetry is found in the flowers of  
\_\_\_\_\_ ના પુષ્પોમાં દ્વિપાર્શ્વીય સમમિતિ જોવા મળે છે.
- |                         |                            |
|-------------------------|----------------------------|
| (1) Mustard<br>રાઇ      | (2) <i>Datura</i><br>ધતુરો |
| (3) Gulmohur<br>ગુલમહોર | (4) Chilli<br>મરચા         |
34. Arrangement of veins and veinlets in leaf lamina is called  
પર્ણફલક (પર્ણપત્ર)માં શિરાઓ અને શિરીકાઓની ગોઠવણીને \_\_\_\_\_ કહે છે
- |                                     |                                  |
|-------------------------------------|----------------------------------|
| (1) Venation<br>શિરાવિન્યાસ         | (2) Phyllotaxy<br>પર્ણવિન્યાસ    |
| (3) Aestivation<br>કલિકાન્તરવિન્યાસ | (4) Placentation<br>જરાયુવિન્યાસ |
35. Bacterial flagellum  
બેક્ટેરિયાની કશા
- |  |
|--|
| (1) Is made up of tubulin protein<br>ટ્યુબ્યુલિન પ્રોટીનની બનેલી છે  |
| (2) Helps the bacterium to attach to the rocks in streams<br>બેક્ટેરિયમને પાણીના વહેણમાં પથ્થરો સાથે જોડવામાં મદદ કરે છે                   |
| (3) Is thin filamentous extension from the cell wall of bacterium<br>બેક્ટેરિયમની કોષદીવાલમાંથી નીકળતી પાતળી તંતુમય રચના છે                |
| (4) Is different from eukaryotic flagellum as it does not help in motility<br>સુકોષકેન્દ્રી કશાથી અલગ છે, કારણકે તે પ્રચલનમાં મદદ કરતી નથી |

36. Synaptonemal complex  
સાયનેપ્ટોનીમલ સંકુલ
- (1) Dissolves during diakinesis stage  
ડાયકાઇનેસીસ તબક્કા દરમિયાન વિઘટન પામે (ઓગળે) છે
  - (2) Stabilises the two homologous chromosomes  
બે સમજાત રંગસૂત્રોને સાંકળે (સ્થાયી કરે) છે
  - (3) Is formed by a pair of synapsed chromosomes called bivalent which first appears during pachytene stage  
દ્વિસૂત્રી નામે ઓળખાતી સાયનોપ્સિસ પામેલા રંગસૂત્રોની જોડ દ્વારા નિર્માણ પામે છે. જે સૌપ્રથમ પેકિટિન તબક્કામાં દેખાય છે
  - (4) Formation involves activity of recombinase enzyme  
ના નિર્માણમાં રિકોમ્બિનેઝ ઉત્સેચકની ક્રિયાવિધિનો સમાવેશ થાય છે
37. Human beings belong to  
મનુષ્યનો સમાવેશ શેમાં થાય છે?
- |  |   |
|--|---|
| (1) Species – <i>sapiens</i><br>જાતિ – સેપિયંસ | (2) Order – <i>Homo</i><br>ગોત્ર – હોમો |
| (3) Class – Chordata<br>વર્ગ – મેરુદંડી        | (4) Family – Primata<br>કુળ – પ્રાઇમેટા |

### SECTION (વિભાગ)-II

#### ONE OR MORE THAN ONE CORRECT ANSWER TYPE (એક અથવા એકથી વધુ સાચા ઉત્તરો ધરાવતા પ્રશ્નો)

This section contains 3 multiple choice questions. Each question has 4 choices (1), (2), (3) and (4) out of which **ONE OR MORE THAN ONE** choice(s) is(are) correct.

આ વિભાગમાં 3 બહુવિકલ્પિય પ્રશ્નો છે. પ્રત્યેક પ્રશ્ન માટે 4 વિકલ્પો (1), (2), (3) અને (4) આપેલાં છે, જેમાંથી એક અથવા એકથી વધારે વિકલ્પો સાચાં છે.

38. Choose the **correct** option(s) w.r.t. the cell organelle which plays a major role in heredity and also controls the activities of other organelles in eukaryotic cells.  
કોષીય અંગિકા કે જે આનુવંશિકતામાં મહત્વનો ભાગ ભજવે છે અને સુકોષકેન્દ્રી કોષોમાં અન્ય અંગિકાઓની ક્રિયાવિધિનું પણ નિયંત્રણ કરે છે, તેના સંદર્ભે સાચું વિધાન(નો) પસંદ કરો.
- (1) Membraneless spherical structures are present in its matrix, which are the site for active rRNA synthesis.  
તેના આધારકમાં પટલવિહીન ગોળાકાર રચનાઓ હાજર હોય છે, જે સક્રિય rRNA સંશ્લેષણના સ્થાન છે.
  - (2) Duplication of centriole and chromosome occurs in it  
તેમાં તારાકેન્દ્ર તથા રંગસૂત્રનું દ્વિગુણન થાય છે.
  - (3) There is presence of highly extended and elaborate nucleoprotein fibres, which can be stained by the basic dyes.  
પુષ્કળ માત્રામાં ફેલાયેલ તથા વિસ્તૃત ન્યુક્લિઓપ્રોટીન તંતુઓની હાજરી, જે બેઝિક અભિરંજકથી અભિરંજિત થઈ શકે છે
  - (4) These are absent in mature mammalian erythrocytes and sieve tube cells of vascular plants.  
પરિપક્વ સસ્તન રક્તકણોમાં તથા વાહકપેશીધારી વનસ્પતિઓની ચાલનીનલિકાના કોષોમાં ગેરહાજર હોય છે.

39. The class of fungi in which only the asexual or vegetative phases are known, exhibits all of the following features, **except**

ફૂગનો વર્ગ, કે જેના ફક્ત અલિંગી તથા વાનસ્પતિક તબક્કાઓ જ જાણીતા છે, તે આપેલ બધા જ લક્ષણો ધરાવે છે, **સિવાય કે**

(1) Large number of them are decomposers of litter and help in mineral cycling.

તેમના મોટા ભાગના નકામા પદાર્થો (કચરા)નું વિઘટન કરતાં વિઘટકો છે અને ખનીજોના ચક્રિયકરણમાં મદદરૂપ છે.

(2) *Alternaria and Colletotrichum* belong to this group and they show septate and branched mycelium.

*અલ્ટર્નેરિયા* અને *કોલેટોટ્રાઇકમ* આ જૂથમાં સમાવેશિત છે તથા તેઓ પડદાયુક્ત અને શાખિત કવકજાળ ધરાવે છે.

(3) Morels and truffles are the edible delicacies of this group.

મોરેલ્સ અને ટ્રફલ્સ એ આ જૂથની ખાદ્ય સુસ્વાદુ વાનગીઓ છે.

(4) Asexual reproduction takes place by motile spores, that are produced in sporangium.

અલિંગી પ્રજનન એ ચલ બીજાણુઓ દ્વારા થાય છે, જે બીજાણુધાનીમાં નિર્માણ પામે છે.

40. Select the **correct** set of match(es).

**સાચી જોડ (જોડો) પસંદ કરો.**

(1) Thymidylic acid – phosphate group = Thymidine

થાયમિડીલીક એસિડ – ફોસ્ફેટ સમૂહ = થાયમિડીન

(2) Adenosine + phosphate group = Arachidonic acid

એડેનોસિન + ફોસ્ફેટ સમૂહ = એરેકીડોનિક એસિડ

(3) Cytosine + phosphoric acid + ribose sugar = Cytidylic acid

સાયટોસિન + ફોસ્ફોરિક એસિડ + રિબોઝ શર્કરા = સાયટિડીલીક એસિડ

(4) Guanosine – phosphate group = Guanine

ગ્વાનોસિન – ફોસ્ફેટ સમૂહ = ગ્વાનિન



# 37 Years Old Legacy of Delivering Outstanding Results



# Aakash

Medical | IIT-JEE | Foundations

## OUR TOP PERFORMERS IN NEET (UG) 2025



## OUR TOP PERFORMERS IN JEE (Advanced) 2025



## Olympiads Results

**777** Classroom Students  
Aakashians Qualified

in IOQM  
2025

**134** Classroom Students  
Aakashians Qualified

in RMO  
2025-26

**378** Classroom Students  
Aakashians Qualified

in NSEs  
2025-26

**26** Classroom Students  
Aakashians Qualified

for OCSCs/IMOTC  
/APMO 2025-26

**2072** Classroom Students  
Aakashians Qualified

in NSO & IMO (Level-1)  
2025-26