

Date: 17/05/2026



Aakash

Medical | IIT-JEE | Foundations

Corporate Office : AESL, 3rd Floor, Incuspaze Campus-2, Plot-13, Sector-18, Udyog Vihar,
Gurugram, Haryana-122015

Time : 3 hrs.

Questions & Answers

Max. Marks: 180

for

JEE (Advanced)-2026 (Paper-1)

PART-I : MATHEMATICS

खंड 1 (अधिकतम अंक : 12)

- इस खंड में चार (04) प्रश्न हैं।
- प्रत्येक प्रश्न के लिए चार विकल्प (A), (B), (C) और (D) दिए गए हैं। इन चार विकल्पों में से केवल एक विकल्प ही सही उत्तर है।
- प्रत्येक प्रश्न के लिए दिए हुए विकल्पों में से सही उत्तर से संबंधित विकल्प को चुनिए।
- प्रत्येक प्रश्न के उत्तर का मूल्यांकन निम्न योजना के अनुसार होगा :

पूर्ण अंक : +3 यदि सिर्फ सही विकल्प ही चुना गया है।

शून्य अंक : 0 यदि कोई भी विकल्प नहीं चुना गया है (अर्थात् प्रश्न अनुत्तरित है)।

ऋण अंक : -1 अन्य सभी परिस्थितियों में

1 out of 2

Aakashians*

Qualified for JEE (Adv.) 2026



37 YEARS OF CONTINUOUS SUCCESS

1. फलन (function) $f : (0, \infty) \rightarrow (-\infty, \infty)$, जो

$$f(x) = \sqrt{x} \log_e(x) - x + 1$$

द्वारा दिया गया है, पर विचार कीजिए।

तब निम्नलिखित कथनों में से कौन सा एक कथन सत्य है ?

- (A) अंतराल $(0, 1)$ में, फलन f का अवकलज (derivative) हासमान (decreasing) है
 (B) किसी बिंदु $a \in (0, \infty)$ पर, फलन f का एक स्थानीय उच्चतम (local maximum) है
 (C) किसी बिंदु $b \in (0, \infty)$ पर, फलन f का एक स्थानीय निम्नतम (local minimum) है
 (D) अंतराल $(0, \infty)$ में, फलन f का न तो कोई स्थानीय उच्चतम का बिंदु (point of local maximum) है और न ही कोई स्थानीय निम्नतम का बिंदु (point of local minimum) है

उत्तर (D)

2. मान लीजिए कि P , परवलय (parabola) $y = x^2$ पर वह बिंदु है जिस पर परवलय की स्पर्श-रेखा (tangent) की प्रवणता (slope) 4 है। मान लीजिए कि Q , प्रथम चतुर्थांश (first quadrant) में वह बिंदु है जो वृत्त (circle) $x^2 + y^2 = 2$ पर स्थित है तथा जिस पर वृत्त की स्पर्श-रेखा की प्रवणता -1 है। मान लीजिए कि R , प्रथम चतुर्थांश में वह बिंदु है जो दीर्घवृत्त (ellipse) $x^2 + 4y^2 = 8$ पर स्थित है तथा जिस पर दीर्घवृत्त की स्पर्श-रेखा की प्रवणता $-\frac{1}{2}$ है। तब बिंदुओं P , Q और R से गुजरने वाले वृत्त की त्रिज्या (radius) है

- (A) $\sqrt{10}$ (B) $\sqrt{5}$
 (C) $\frac{\sqrt{5}}{2}$ (D) $2\sqrt{5}$

उत्तर (C)

3. निम्नलिखित आव्यूहों (matrices) में से कौन से एक आव्यूह (matrix) को 3×3 तत्समक आव्यूह (identity matrix) पर प्रारंभिक पंक्ति संक्रियाओं के प्रयोग द्वारा (by performing elementary row transformations) प्राप्त किया जा सकता है?

- (A) $\begin{bmatrix} 1 & 1 & 1 \\ 1 & 1 & 1 \\ 1 & 1 & 1 \end{bmatrix}$ (B) $\begin{bmatrix} 1 & 1 & 1 \\ 2 & 3 & 4 \\ 1 & 2 & 1 \end{bmatrix}$
 (C) $\begin{bmatrix} 1 & 1 & 1 \\ 2 & 3 & 4 \\ 2 & 5 & 8 \end{bmatrix}$ (D) $\begin{bmatrix} 1 & 1 & 1 \\ -1 & 1 & 2 \\ 0 & 2 & 3 \end{bmatrix}$

उत्तर (B)

1 out of 2 Aakashians*
Qualified for JEE (Adv.) 2026

37 YEARS OF CONTINUOUS SUCCESS

AIR 93: E. Ramesh Shankar (Topper)
 AIR 57: Sankar K. Agarwal (Topper)
 AIR 43: Adarsh Kumar Sharma (Topper)
 AIR 27: Vikash Khanna (Uttar Pradesh Topper)
 AIR 11: Yash Wadhvani (Rajasthan Topper)
 AIR 31: Anshu P. (Topper)
 AIR 55: Harish Choudhary (Topper)
 AIR 68: Arun Gupta (Topper)
 AIR 94: Sandeep Pruthi (Topper)

4. प्रतिलोम त्रिकोणमितीय फलनों (inverse trigonometric functions) के केवल मुख्य मानों (principal values) को ध्यान में रखते हुए,

$$\cot^{-1}(\cot(-11)) + 10 \sin\left(2 \cos^{-1}\left(\frac{1}{\sqrt{2}}\right)\right) + 10 \sin(2 \tan^{-1}(2))$$

का मान है

- (A) $3\pi + 7$ (B) 7
(C) $4\pi + 7$ (D) $3\pi - 5$

उत्तर (C)

खंड 2 (अधिकतम अंक : 16)

- इस खंड में चार (04) प्रश्न हैं।
- प्रत्येक प्रश्न के लिए चार विकल्प (A), (B), (C) और (D) दिए गए हैं। इन चार विकल्पों में से एक या एक से अधिक विकल्प सही उत्तर है (हैं)।
- प्रत्येक प्रश्न के लिए दिए हुए विकल्पों में से सही उत्तर (उत्तरों) से संबंधित विकल्प (विकल्पों) को चुनिए।
- प्रत्येक प्रश्न के उत्तर का मूल्यांकन निम्न योजना के अनुसार होगा :
 - पूर्ण अंक : +4 यदि केवल (सारे) सही विकल्प (विकल्पों) को चुना गया है।
 - आंशिक अंक : +3 यदि चारों विकल्प सही हैं परन्तु केवल तीन विकल्पों को चुना गया है।
 - आंशिक अंक : +2 यदि तीन या तीन से अधिक विकल्प सही हैं परन्तु केवल दो विकल्पों को चुना गया है और दोनों चुने हुए विकल्प सही विकल्प हैं।
 - आंशिक अंक : +1 यदि दो या दो से अधिक विकल्प सही हैं परन्तु केवल एक विकल्प को चुना गया है और चुना हुआ विकल्प एक सही विकल्प है।
 - शून्य अंक : 0 यदि किसी भी विकल्प को नहीं चुना गया है (अर्थात् प्रश्न अनुत्तरित है)।
 - ऋण अंक : -1 अन्य सभी परिस्थितियों में।

5. मान लीजिए कि पेटी I में 6 लाल गेंदें और 9 हरी गेंदें हैं, तथा पेटी II में 8 लाल गेंदें और 12 हरी गेंदें हैं। पेटी I और पेटी II की सभी गेंदों को एक साथ मिलाकर उनमें से एक गेंद को यादृच्छया (at random) चुना जाता है। मान लीजिए कि E_1 वह घटना (event) है कि चुनी हुई गेंद पेटी I से थी, और E_2 वह घटना है कि चुनी हुई गेंद पेटी II से थी। मान लीजिए कि F_1 वह घटना है कि चुनी हुई गेंद लाल है, और F_2 वह घटना है कि चुनी हुई गेंद हरी है।

तब निम्नलिखित कथनों में से कौन सा (से) सत्य है (हैं)?

- (A) घटनाएँ E_1 और F_1 स्वतंत्र (independent) हैं
(B) घटनाएँ E_2 और F_2 पराश्रित (dependent) हैं
(C) सप्रतिबंध प्रायिकता (conditional probability) $P(F_1 | E_1)$, सप्रतिबंध प्रायिकता $P(F_1 | E_2)$ के बराबर है
(D) सप्रतिबंध प्रायिकता (conditional probability) $P(F_1 | E_1)$, सप्रतिबंध प्रायिकता $P(F_2 | E_2)$ से बड़ी है

उत्तर (A, C)

1

out of

2



Aakashians*

Qualified for JEE (Adv.) 2026



AIR 93



Rishabh Shukla
1 Year Old Student

AIR 57



Sudhanshu K. Agarwal
1 Year Old Student

AIR 43



Adarsh Kumar Sharma
2 Year Old Student

AIR 27



Vishal Shukla
1 Year Old Student

AIR 11



Rajasthan Topper

AIR 31



Anshu
1 Year Old Student

AIR 55



Harsh Choudhary
1 Year Old Student

AIR 68



Aarav Gupta
1 Year Old Student

AIR 94



Sidd C. Prasad
2 Year Old Student

37 YEARS OF CONTINUOUS SUCCESS

6. मान लीजिए कि P एक इस प्रकार का समतल (plane) है जो सरल रेखा (straight line) $\frac{x-1}{2} = \frac{y-3}{3} = \frac{z+2}{1}$ को अंतर्विष्ट करता है (contains) और समतल $x + 2y + 3z = 4$ के लंबवत (perpendicular) है। मान लीजिए कि P_1 वह समतल है जो बिंदु $(4, 2, 2)$ से गुजरता है और P के समांतर (parallel) है।

तब निम्नलिखित कथनों में से कौन सा (से) सत्य है (हैं) ?

- (A) समतल P का समीकरण $7x - 5y + z = -10$ है
 (B) समतलों P और P_1 के बीच की दूरी 30 है
 (C) समतल P की मूलबिंदु (origin) से दूरी $2\sqrt{3}$ है
 (D) समतल P और समतल $x + 2y + z = 3$ के बीच का न्यूनकोण (acute angle) $\cos^{-1}\left(\frac{1}{3\sqrt{3}}\right)$

उत्तर (A, D)

7. मान लीजिए कि \mathbb{R} सभी वास्तविक संख्याओं के समुच्चय (the set of all real numbers) को दर्शाता है। मान लीजिए कि $f: \mathbb{R} \rightarrow \mathbb{R}$ एक स्वेच्छ फलन (arbitrary function) है, और मान लीजिए कि फलन $g: \mathbb{R} \rightarrow \mathbb{R}$

$g(x) = xf(x)$, सभी $x \in \mathbb{R}$ के लिए, द्वारा परिभाषित है।

तब निम्नलिखित कथनों में से कौन सा (से) सत्य है (हैं) ?

- (A) फलन g , $x = 0$ पर सदैव संतत (continuous) है
 (B) यदि f , $x = 0$ पर संतत (continuous) है, तब g , $x = 0$ पर अवकलनीय (differentiable) है
 (C) यदि g , $x = 0$ पर अवकलनीय (differentiable) है, तब f , $x = 0$ पर संतत (continuous) है
 (D) यदि g , $x = 0$ पर अवकलनीय (differentiable) है, तब $\lim_{x \rightarrow 0} f(x)$ का अस्तित्व है

उत्तर (B, D)

8. आव्यूह (matrix)

$$M = \begin{bmatrix} 2 & -1 \\ 1 & 0 \end{bmatrix}$$

पर विचार कीजिए।

मान लीजिए कि p, q, r, s, a, b, c तथा d इस प्रकार के पूर्णांक (integers) हैं कि

$$M^{26} = \begin{bmatrix} p & q \\ r & s \end{bmatrix} \text{ और } \sum_{k=1}^{26} M^k = \begin{bmatrix} a & b \\ c & d \end{bmatrix}.$$

1 out of 2

Aakashians*

Qualified for JEE (Adv.) 2026

AIR 93



E. Ramesh Shankar
1 Year, Classroom

AIR 57



Subhanshu K. Agarwal
1 Year, Classroom

AIR 43



Adarsh Kumar Sharma
2 Year, Classroom

AIR 27



Vikram Khanna
1 Year, Classroom

AIR 11



Yash Wardhan
1 Year, Classroom

AIR 31



Anshu P
1 Year, Classroom

AIR 55



Harish Choudhary
1 Year, Distance Program

AIR 68



Aayush Gupta
1 Year, Classroom

AIR 94



Sandeep Pruthi
2 Year, Classroom

37 YEARS OF CONTINUOUS SUCCESS

तब निम्नलिखित कथनों में से कौन सा (से) सत्य है (हैं)?

(A) एक वास्तविक संख्याओं की प्रविष्टियों (real entries) वाले 2×2 व्युत्क्रमणीय आव्यूह (invertible matrix) N का अस्तित्व है कि

$$MN = N \begin{bmatrix} 1 & 1 \\ 0 & 1 \end{bmatrix}$$

(B) a का मान 378 है

(C) दिए गये किन्हीं भी दो पूर्णाकों (integers) m और n के लिए, अद्वितीय पूर्णाकों (unique integers) x और y का अस्तित्व है कि

$$px + qy = m \text{ और } rx + sy = n \text{ हैं}$$

(D) प्रत्येक धन वास्तविक संख्या (positive real number) t के लिए, रैखिक समीकरणों के निकाय (system of linear equations)

$$(a + t)x + by = 1$$

$$cx + (d + t)y = -1$$

का एक अद्वितीय हल (unique solution) है

उत्तर (A, C, D)

खंड 3 (अधिकतम अंक : 16)

- इस खंड में चार (04) प्रश्न हैं।
- प्रत्येक प्रश्न का उत्तर एक संख्यात्मक मान (NUMERICAL VALUE) है।
- प्रत्येक प्रश्न के उत्तर से संबंधित सही संख्यात्मक मान को माउस (MOUSE) और ऑन-स्क्रीन (ON-SCREEN) वर्चुअल न्यूमेरिक कीपैड (VIRTUAL NUMERIC KEYPAD) के प्रयोग से उत्तर के लिए चिन्हित स्थान पर प्रविष्ट करें।
- यदि संख्यात्मक मान में दो से अधिक दशमलव स्थान हैं, तो मान को दो (02) दशमलव स्थानों तक समेटें/शून्यांत (TRUNCATE/ROUND-OFF) करें।
- प्रत्येक प्रश्न के उत्तर का मूल्यांकन निम्न योजना के अनुसार होगा :
पूर्ण अंक : +4 यदि निर्दिष्ट स्थान पर केवल सही संख्यात्मक मान प्रविष्ट किया गया है।
शून्य अंक : 0 अन्य सभी परिस्थितियों में।

9. मान लीजिए कि $S = \{1, 2, 3, \dots, 10\}$ है। समुच्चय (set)

$X = \{R : R, \text{ समुच्चय } S \text{ पर एक ऐसा तुल्यता संबंध (equivalence relation) है कि } R \text{ में ठीक 42 अवयव हैं}\}$ पर विचार कीजिए।

तब X में अवयवों की संख्या (number of elements) _____ है।

उत्तर (2520)



1 out of 2
Aakashians*
Qualified for JEE (Adv.) 2026

AIR 93, AIR 57, AIR 43, AIR 27 (Uttar Pradesh Topper), AIR 11 (Rajasthan Topper), AIR 31, AIR 55, AIR 68, AIR 94

37 YEARS OF CONTINUOUS SUCCESS

10. फलन (function) $f : \left(-\frac{\pi}{2}, \frac{\pi}{2}\right) \rightarrow (-\infty, \infty)$ जो

$$f(x) = (|x| + |x - 1|)\sin x + [x \sin x],$$

द्वारा परिभाषित है, पर विचार कीजिए, जहाँ $[x \sin x]$, $x \sin x$ से कम या $x \sin x$ के बराबर महत्तम पूर्णांक (greatest integer less than or equal to $x \sin x$) है।

मान लीजिए कि α , अंतराल $\left(-\frac{\pi}{2}, \frac{\pi}{2}\right)$ में उन सभी बिंदुओं की संख्या है जिन पर f संतत (continuous) नहीं है और β , अंतराल $\left(-\frac{\pi}{2}, \frac{\pi}{2}\right)$ में उन सभी बिंदुओं की संख्या है जिन पर f अवकलनीय (differentiable) नहीं है। तब $\alpha + \beta$ का मान _____ है।

उत्तर (5.00)

11. चार व्यक्तियों में 10 समरूप (identical) लाल रंग के कलमों (pens) तथा 14 समरूप नीले रंग के कलमों को इस तरह बांटने की संख्या, कि हर व्यक्ति को 6 कलम मिलें, _____ है।

उत्तर (206.00)

12. मान लीजिए कि

$$\alpha = \left(1 - 2\cos\left(\frac{\pi}{11}\right)\right)\left(1 - 2\cos\left(\frac{3\pi}{11}\right)\right)\left(1 - 2\cos\left(\frac{9\pi}{11}\right)\right)\left(1 - 2\cos\left(\frac{27\pi}{11}\right)\right)\left(1 - 2\cos\left(\frac{81\pi}{11}\right)\right)$$

तब $5 - \alpha^2$ का मान _____ है।

उत्तर (04.00)

खंड 4 (अधिकतम अंक : 16)

- इस खंड में चार (04) सूची-सुमेलन (Matching List) सेट्स (sets) हैं।
- प्रत्येक सूची-सुमेलन सेट में एक (01) एकाधिक विकल्प प्रश्न (Multiple Choice Question) है।
- प्रत्येक सूची-सुमेलन सेट में दो सूचियाँ हैं: सूची-I और सूची-II।
- सूची-I में चार (04) प्रविष्टियाँ (P), (Q), (R) और (S) हैं एवं सूची-II में पाँच (05) प्रविष्टियाँ (1), (2), (3), (4) और (5) हैं।
- प्रत्येक एकाधिक विकल्प प्रश्न में सूची-I और सूची-II पर आधारित चार विकल्प दिए गए हैं और इन विकल्पों में से केवल एक विकल्प ही एकाधिक विकल्प प्रश्न की शर्त पूरा करता है।
- प्रत्येक प्रश्न के उत्तर का मूल्यांकन निम्न योजना के अनुसार होगा :

पूर्ण अंक : +4 यदि सिर्फ सही विकल्प को ही चुना गया है।

शून्य अंक : 0 यदि कोई भी विकल्प नहीं चुना गया है (अर्थात् प्रश्न अनुत्तरित है)।

ऋण अंक : -1 अन्य सभी परिस्थितियों में।

1 out of 2

Aakashians*

Qualified for JEE (Adv.) 2026

AIR 93



Rishabh Shukla
1 Year Old

AIR 57



Sudhanshu K. Agarwal
1 Year Old

AIR 43



Adarsh Kumar Sharma
2 Year Old

AIR 27



Vishwanshu Khanna
1 Year Old

AIR 11



Rajasthan Topper
1 Year Old

AIR 31



Anshu P
1 Year Old

AIR 55



Nishal Choudhary
1 Year Old

AIR 68



Aarav Gupta
1 Year Old

AIR 94



Sidd C. Pruthi
2 Year Old

37 YEARS OF CONTINUOUS SUCCESS

13. सूची-I की प्रत्येक प्रविष्टि (entry) का सूची-II की सही प्रविष्टि से मिलान कर सही विकल्प (option) चुनिए।

सूची-I	सूची-II
(P) यदि α और β , समीकरण $x^2 + x + 1 = 0$ के भिन्न मूल (distinct roots) हैं, तब वह द्विघातीय समीकरण (quadratic equation) जिसके मूल (roots) $\frac{1}{(\alpha+1)^{2026}}$ और $\frac{1}{(\beta+1)^{2026}}$ हैं,	(1) $x^2 + x + 1 = 0$ है
(Q) यदि α और β , समीकरण $x^2 + x + 1 = 0$ के भिन्न मूल (distinct roots) हैं, तब वह द्विघातीय समीकरण (quadratic equation) जिसके मूल (roots) $\frac{1}{(\alpha+1)^{2027}}$ और $\frac{1}{(\beta+1)^{2027}}$ हैं,	(2) $x^2 - x + 1 = 0$ है
(R) यदि γ और δ , समीकरण $x^2 - x + 1 = 0$ के भिन्न मूल (distinct roots) हैं, तब $\frac{1}{(\gamma-1)^{2026}} + \frac{1}{(\delta-1)^{2026}}$ का मान	(3) $x^2 + x - 1 = 0$ है
(S) यदि p और r , समीकरण $x^2 + x - 1 = 0$ के भिन्न मूल (distinct roots) हैं, तब $\frac{1}{(p+1)^3} + \frac{1}{(r+1)^3}$ का मान	(4) -1 है
	(5) -4 है

(A) (P) \rightarrow (1), (Q) \rightarrow (2), (R) \rightarrow (5), (S) \rightarrow (4)

(B) (P) \rightarrow (3), (Q) \rightarrow (1), (R) \rightarrow (4), (S) \rightarrow (5)

(C) (P) \rightarrow (1), (Q) \rightarrow (2), (R) \rightarrow (4), (S) \rightarrow (5)

(D) (P) \rightarrow (2), (Q) \rightarrow (3), (R) \rightarrow (5), (S) \rightarrow (4)

उत्तर (C)

1 out of 2

Aakashians*

Qualified for JEE (Adv.) 2026



AIR 93: E. Ramesh Shankar (1 Year, Odisha)
 AIR 57: Subhanshu K. Agarwal (1 Year, Odisha)
 AIR 43: Adarsh Kumar Mishra (2 Year, Odisha)
 AIR 27: Vikram Khosla (1 Year, Odisha)
 AIR 11: Rajesh Kumar (1 Year, Odisha)
 AIR 31: Anshu (1 Year, Odisha)
 AIR 55: Harish Choudhary (1 Year, Odisha)
 AIR 68: Anshu Gupta (1 Year, Odisha)
 AIR 94: Sandeep C. Prasad (1 Year, Odisha)

37 YEARS OF CONTINUOUS SUCCESS

14. सूची-I की प्रत्येक प्रविष्टि (entry) का सूची-II की सही प्रविष्टि से मिलान कर सही विकल्प (option) चुनिए।

	सूची-I		सूची-II
(P)	समुच्चय $\{x \in [-\pi, \pi] : \sin^6 x + \cos^4 x = 1\}$ में अवयवों की संख्या (number of elements)	(1)	1 है
(Q)	समुच्चय $\left\{x \in \left[-\frac{\pi}{2}, \frac{\pi}{2}\right] : \sin^2 x + \cos^6 x = 1\right\}$ में अवयवों की संख्या (number of elements)	(2)	2 है
(R)	समुच्चय $\left\{x \in [-\pi, \pi] : \cos^2\left(\frac{x}{2}\right) - \sin^2 x = \frac{1}{2}\right\}$ में अवयवों की संख्या (number of elements)	(3)	3 है
(S)	समुच्चय $\left\{x \in [-2\pi, 2\pi] : 6\sin^2\left(\frac{x}{2}\right) - \cos 3x = 3\right\}$ में अवयवों की संख्या (number of elements)	(4)	4 है
		(5)	5 है

(A) (P) → (2), (Q) → (5), (R) → (3), (S) → (4)

(B) (P) → (5), (Q) → (3), (R) → (2), (S) → (4)

(C) (P) → (5), (Q) → (4), (R) → (1), (S) → (3)

(D) (P) → (4), (Q) → (3), (R) → (2), (S) → (5)

उत्तर (B)

1

out of

2

Aakashians*

Qualified for JEE (Adv.) 2026

AIR 93



E. Ramesh Shankar
1 Year, Classroom

AIR 57



Subhanshu K. Agarwal
1 Year, Classroom

AIR 43



Adarsh Kumar Bohara
2 Year, Classroom

AIR 27



Vikram Khosla
1 Year, Classroom

AIR 11



Yash Wadhvani
1 Year, Classroom

AIR 31



Anshu P
1 Year, Classroom

AIR 55



Harish Choudhary
1 Year, Distance Program

AIR 68



Aayush Gupta
1 Year, Classroom

AIR 94



Sandeep C. Pruthi
2 Year, Classroom

37 YEARS OF CONTINUOUS SUCCESS

15. वास्तविक संख्याओं (real numbers) $\alpha, \beta, \gamma, \delta$ और μ के लिए, आव्यूह (matrix)

$$M = \begin{bmatrix} \alpha & \frac{1}{\sqrt{2}} & -\frac{1}{\sqrt{2}} \\ \frac{1}{\sqrt{3}} & \beta & \frac{1}{\sqrt{3}} \\ \gamma & \delta & \mu \end{bmatrix}$$

पर विचार कीजिए।

मान लीजिए कि $MM^T = I$ है, जहाँ M^T , आव्यूह M का परिवर्त (transpose) है और I , 3×3 तत्समक आव्यूह (identity matrix) है। मान लीजिए कि

$$\mu = \alpha \hat{i} + \frac{1}{\sqrt{3}} \hat{j} + \gamma \hat{k}, \quad \vec{v} = \frac{1}{\sqrt{2}} \hat{i} + \beta \hat{j} + \delta \hat{k} \quad \text{और} \quad \vec{w} = -\frac{1}{\sqrt{2}} \hat{i} + \frac{1}{\sqrt{3}} \hat{j} + \mu \hat{k}.$$

सूची-I की प्रत्येक प्रविष्टि (entry) का सूची-II की सही प्रविष्टि से मिलान कर सही विकल्प (option) चुनिए।

	सूची-I		सूची-II
(P)	$y^2 + \delta^2$ का मान	(1)	0 है
(Q)	यदि किन्हीं वास्तविक संख्याओं x, y और z के लिए $x\vec{u} + y\vec{v} + z\vec{w} = \hat{j}$ है, तब x का मान	(2)	1 है
(R)	$ \vec{u} \cdot (\vec{v} \times \vec{w}) $ का मान	(3)	$\frac{1}{\sqrt{2}}$ है
(S)	$ \vec{u} \times (\vec{v} \times \vec{w}) $ का मान	(4)	$\frac{1}{\sqrt{3}}$ है
		(5)	$\frac{5}{6}$ है

(A) (P) \rightarrow (5), (Q) \rightarrow (4), (R) \rightarrow (2), (S) \rightarrow (1)

(B) (P) \rightarrow (4), (Q) \rightarrow (5), (R) \rightarrow (1), (S) \rightarrow (2)

(C) (P) \rightarrow (5), (Q) \rightarrow (3), (R) \rightarrow (2), (S) \rightarrow (1)

(D) (P) \rightarrow (5), (Q) \rightarrow (4), (R) \rightarrow (1), (S) \rightarrow (2)

उत्तर (A)

1

out of

2

Aakashians*

Qualified for JEE (Adv.) 2026

AIR 93

E. Ramesh Shankar
1 Year, Odisha

AIR 57

Sudhanshu K. Agarwal
1 Year, Odisha

AIR 43

Adarsh Kumar Mishra
2 Year, Odisha

AIR 27

Vishwanath Khanna
1 Year, Odisha

AIR 11

Rajasthan Topper
Yash Wardhan
1 Year, Odisha

AIR 31

Anshu P
1 Year, Odisha

AIR 55

Rishabh Choudhary
1 Year, Odisha

AIR 68

Aarav Gupta
1 Year, Odisha

AIR 94

Siddhant C. Pradhan
2 Year, Odisha

37 YEARS OF CONTINUOUS SUCCESS

16. सूची-I की प्रत्येक प्रविष्टि (entry) का सूची-II की सही प्रविष्टि से मिलान कर सही विकल्प (option) चुनिए।

	सूची-I		सूची-II
(P)	वह वृत्त (circle) जिसका केंद्र (centre) (1, 2) है और जो सरल रेखा (straight line) $3x + 4y = 1$ को स्पर्श करता है,	(1)	बिंदु (1, 1) से गुजरता / गुजरती है
(Q)	वृत्त (circle) $x^2 + y^2 = 2$ और परवलय (parabola) $y^2 = 8x$ की उभयनिष्ठ स्पर्श-रेखा (common tangent) जिसकी प्रवणता (slope) धनात्मक (positive) है,	(2)	बिंदु (7, 9) से गुजरता / गुजरती है
(R)	मान लीजिए कि M , दीर्घवृत्त (ellipse) $3x^2 + 4y^2 = 48$ नाभिलंब जीवा (latus rectum) का वह अंत्य बिंदु (endpoint) है जो प्रथम चतुर्थांश (first quadrant) में है। तब बिंदु M पर खींचे गये दीर्घवृत्त का अभिलंब (normal)	(3)	बिंदु (3, 2) से गुजरता / गुजरती है
(S)	मान लीजिए कि H वह अतिपरवलय (hyperbola) है जिसका केंद्र (centre) मूल बिंदु (origin) पर है, एक नाभि (focus) (5, 0) पर है, और एक नियता (directrix) $5x + 16 = 0$ तब H	(4)	बिंदु (2, 5) से गुजरता / गुजरती है
		(5)	बिंदु $(8, 3\sqrt{3})$ से गुजरता / गुजरती है

(A) (P) → (3), (Q) → (4), (R) → (1), (S) → (2)

(B) (P) → (3), (Q) → (2), (R) → (1), (S) → (5)

(C) (P) → (3), (Q) → (2), (R) → (4), (S) → (5)

(D) (P) → (4), (Q) → (1), (R) → (2), (S) → (3)

उत्तर (B)

1

out of 2

Aakashians*

Qualified for JEE (Adv.) 2026



E. Ramesh Shankar (AIR 93), Sushant K. Agarwal (AIR 57), Adarsh Kumar Sharma (AIR 43), Vikram Khanna (AIR 27), Yash Wadhvani (AIR 11), Anshu P. (AIR 31), Harish Choudhary (AIR 55), Arun Gupta (AIR 68), Sandeep Prasad (AIR 94)

37 YEARS OF CONTINUOUS SUCCESS

PART-II : PHYSICS

खंड 1 (अधिकतम अंक : 12)

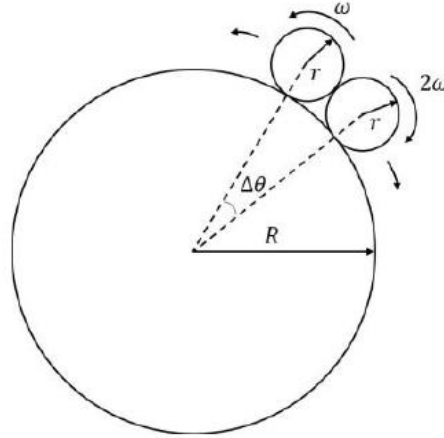
- इस खंड में चार (04) प्रश्न हैं।
- प्रत्येक प्रश्न के लिए चार विकल्प (A), (B), (C) और (D) दिए गए हैं। इन चार विकल्पों में से केवल एक विकल्प ही सही उत्तर है।
- प्रत्येक प्रश्न के लिए दिए हुए विकल्पों में से सही उत्तर से संबंधित विकल्प को चुनिए।
- प्रत्येक प्रश्न के उत्तर का मूल्यांकन निम्न योजना के अनुसार होगा :

पूर्ण अंक : +3 यदि सिर्फ सही विकल्प ही चुना गया है।

शून्य अंक : 0 यदि कोई भी विकल्प नहीं चुना गया है (अर्थात प्रश्न अनुत्तरित है)।

ऋण अंक : -1 अन्य सभी परिस्थितियों में

1. एक R त्रिज्या की बड़ी चकती (disk) की परिधि पर स्थित दो छोटी $r = \frac{R}{50}$ त्रिज्या की चकतियां दर्शाए चित्रानुसार स्थित हैं। प्रारंभ में छोटी चकतियां एक दूसरे से इस प्रकार संपर्क में हैं कि उनके केन्द्रों के बीच कोणीय दूरी $\Delta\theta$ है। छोटी चकतियों को बड़ी चकती की परिधि पर बिना फिसले विपरीत दिशाओं में अचर कोणीय वेग ω और 2ω से लुढ़काया जाता है जबकि बड़ी चकती को स्थिर रखा गया है। समय τ , जिस पर छोटी चकतियां पुनः संपर्क में आती है, होगा: [गुरुत्वाकर्षण की उपेक्षा कीजिये एवं $\sin(\Delta\theta) = \Delta\theta$ का प्रयोग कीजिये]



(A) $\tau = 51 \times \left(2\pi - \frac{4}{51}\right) / \omega$

(B) $\tau = 51 \times \left(2\pi - \frac{2}{51}\right) / 3\omega$

(C) $\tau = 51 \times \left(2\pi - \frac{4}{51}\right) / 3\omega$

(D) $\tau = 51 \times \left(2\pi - \frac{2}{51}\right) / \omega$

उत्तर (C)

1

out of 2

Aakashians*

Qualified for JEE (Adv.) 2026

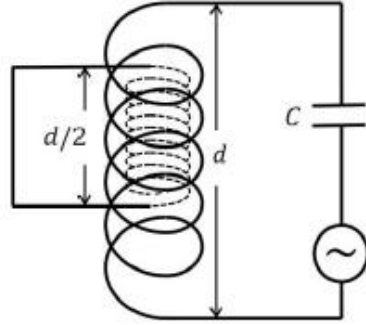


AIR 93	AIR 57	AIR 43	AIR 27	AIR 11	AIR 31	AIR 55	AIR 68	AIR 94
Prayansh Shrivastava	Sudhanshu K. Agarwal	Adarsh Kumar Bhatnagar	Vishwanath Khanna	Yashvardhan	Ashish P.	Rishabh Choudhary	Aman Singh	Aditya C. Prasad
1 Year Olympiad	1 Year Olympiad	2 Year Olympiad	1 Year Olympiad	1 Year Olympiad	1 Year Olympiad	1 Year Olympiad	1 Year Olympiad	1 Year Olympiad

*As per the website of IIT-JEE (Advanced) 2026

37 YEARS OF CONTINUOUS SUCCESS

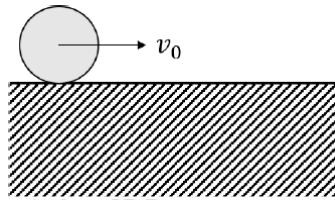
2. एक C धारिता के संधारित्र और एक कुंडली, जिसकी लम्बाई d , अनुप्रस्थ-काट का क्षेत्रफल, जहाँ $d^2 \gg S$ है एवं इकाई लम्बाई में फेरों की संख्या N है, से युक्त एक विद्युत् परिपथ पर विचार कीजिये। एक दूसरी कुंडली, जिसकी लम्बाई $d/2$, अनुप्रस्थ-काट का क्षेत्रफल $S/2$ एवं इकाई लम्बाई में फेरों की संख्या $2N$ है, को पूर्णतया पहली कुंडली के भीतर चित्रानुसार रखा गया है। छोटी कुंडली के सिरों को एक-दूसरे से एक विद्युत्-रोधी-परत-युक्त (insulated) चालक तार से जोड़ा गया है। बड़ी कुंडली का स्व-प्रेरकत्व L है। अंत-प्रभावों एवं ओमीय (Ohmic) प्रतिरोधों को नगण्य मानते हुए विद्युत् परिपथ की अनुनाद आवृत्ति है:



- (A) $\frac{4}{\sqrt{15LC}}$ (B) $\frac{6}{\sqrt{5LC}}$
(C) $\frac{2}{\sqrt{3LC}}$ (D) $\sqrt{\frac{2}{3LC}}$

उत्तर (C)

3. एक R त्रिज्या का ठोस बेलन चित्रानुसार एक उर्ध्वाधर किनारे वाले क्षैतिज समतल पर द्रव्यमान-केंद्र की चाल $v_0 = \sqrt{\frac{gR}{3}}$ से बिना फिसले हुए लुढ़क रहा है। यहाँ g गुरुत्वीय त्वरण है। जिस क्षण पर बेलन का, किनारे के परितः घूर्णन के कारण, समतल से संपर्क टूटता है उस क्षण पर बेलन के द्रव्यमान-केंद्र की चाल है:



- (A) 0 (B) $\sqrt{\frac{5gR}{7}}$
(C) $\sqrt{\frac{gR}{15}}$ (D) $\sqrt{\frac{3gR}{7}}$

उत्तर (B)

1

out of

2

Aakashians*

Qualified for JEE (Adv.) 2026

AIR 93

Piyush Chakravarty
1 Year Old

AIR 57

Subham K Agarwal
1 Year Old

AIR 43

Adarsh Kumar Bhatnagar
2 Year Old

AIR 27

Vikram Khanna
1 Year Old

AIR 11

Yash Wardhan
11 Year Old

AIR 31

Ansh P
1 Year Old

AIR 55

Karish Choudhary
1 Year Old

AIR 68

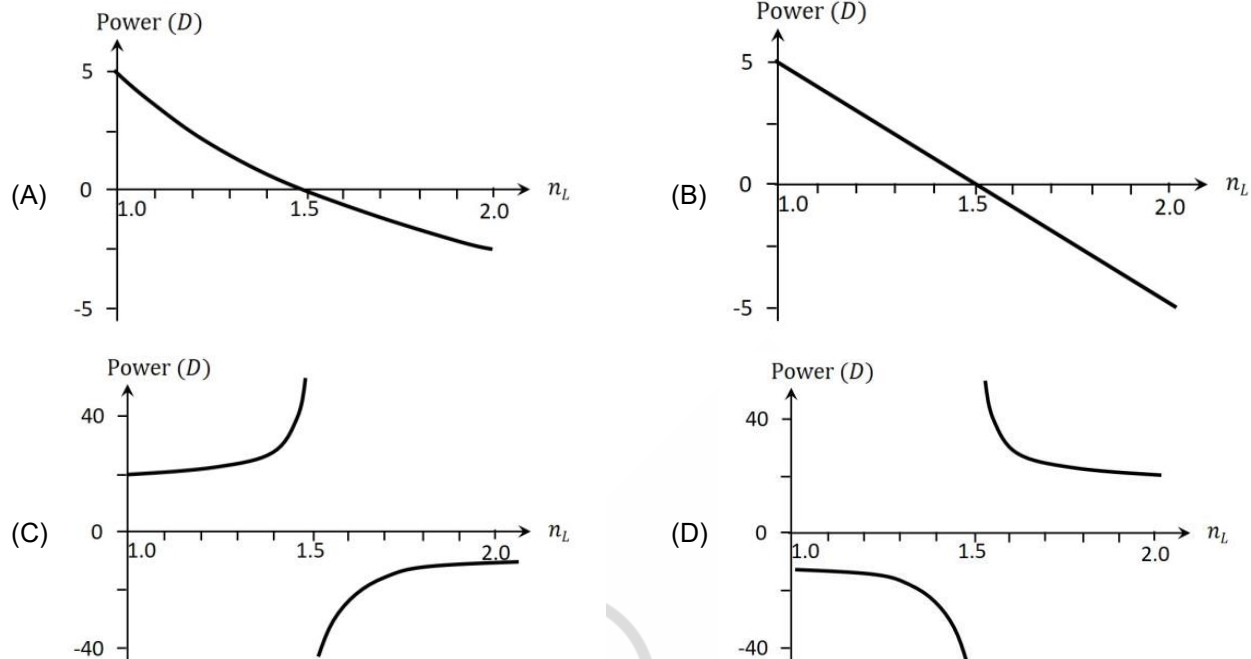
Aarav Gupta
1 Year Old

AIR 94

Ansh C Pradhan
1 Year Old

37 YEARS OF CONTINUOUS SUCCESS

4. एक 1.5 अपवर्तनांक के कांच के बने हुए उभयोत्तल लेंस, जिसके प्रत्येक वक्र-प्रष्ठ की वक्रता-त्रिज्या 20 cm है, को n_L अपवर्तनांक के द्रव में पूरी तरह डुबाया गया है। डायोप्टर (D) इकाई में लेंस की क्षमता (Power) का n_L के साथ परिवर्तन का सही आरेख है:



उत्तर (A)

खंड 2 (अधिकतम अंक : 16)

- इस खंड में चार (04) प्रश्न हैं।
- प्रत्येक प्रश्न के लिए चार विकल्प (A), (B), (C) और (D) दिए गए हैं। इन चार विकल्पों में से एक या एक से अधिक विकल्प सही उत्तर है (हैं)।
- प्रत्येक प्रश्न के लिए दिए हुए विकल्पों में से सही उत्तर (उत्तरों) से संबंधित विकल्प (विकल्पों) को चुनिए।
- प्रत्येक प्रश्न के उत्तर का मूल्यांकन निम्न योजना के अनुसार होगा :
पूर्ण अंक : +4 यदि केवल (सारे) सही विकल्प (विकल्पों) को चुना गया है।
आंशिक अंक : +3 यदि चारों विकल्प सही हैं परन्तु केवल तीन विकल्पों को चुना गया है।
आंशिक अंक : +2 यदि तीन या तीन से अधिक विकल्प सही हैं परन्तु केवल दो विकल्पों को चुना गया है और दोनों चुने हुए विकल्प सही विकल्प हैं।
आंशिक अंक : +1 यदि दो या दो से अधिक विकल्प सही हैं परन्तु केवल एक विकल्प को चुना गया है और चुना हुआ विकल्प एक सही विकल्प है।
शून्य अंक : 0 यदि किसी भी विकल्प को नहीं चुना गया है (अर्थात प्रश्न अनुत्तरित है)।
ऋण अंक : -1 अन्य सभी परिस्थितियों में।

1 out of 2

Aakashians*

Qualified for JEE (Adv.) 2026

Prayansh Shukla
1 Year Old

Sudhanshu K. Agarwal
1 Year Old

Adarsh Kumar Bhatnagar
2 Year Old

Vishwanath Khanna
1 Year Old

Yashvardhan
1 Year Old

Anshu P.
1 Year Old

Rishabh Choudhary
1 Year Old

Aarav Gupta
1 Year Old

Arish C. Prasad
1 Year Old

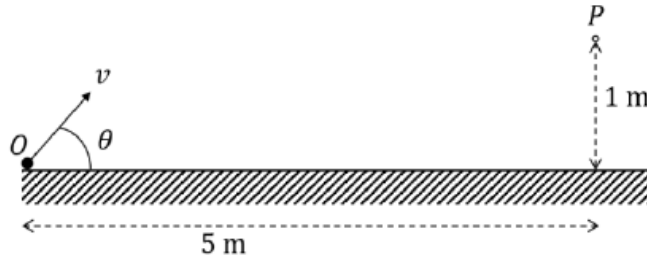
37 YEARS OF CONTINUOUS SUCCESS

5. एक हाईड्रोजन परमाणु की कक्षा k में इलेक्ट्रॉन की चाल, कक्षा-त्रिज्या एवं गतिज ऊर्जा क्रमशः v_k , r_k एवं K_k से निरूपित हैं। इलेक्ट्रॉन कक्षा n से इस तरह संक्रमण करता है कि लाइमन श्रेणी के संगत विकिरण उत्सर्जित होता है। यदि h प्लांक स्थिरांक एवं ϵ_0 मुक्त आकाश की विद्युतशीलता है तो निम्न में से सही कथन है/हैं:

- (A) इलेक्ट्रॉन की गतिज ऊर्जा में परिवर्तन के परिमाण को $\frac{h}{4\pi} \left| \frac{nv_n}{r_n} - \frac{v_1}{r_1} \right|$ से व्यक्त किया जा सकता है। 71
- (B) इलेक्ट्रॉन की दे-ब्रॉग्ली तरंग-दैर्घ्य में परिवर्तन के परिमाण को $\frac{e^2}{4\epsilon_0} \left| \frac{1}{K_n} - \frac{1}{K_1} \right|$ से व्यक्त किया जा सकता है।
- (C) उत्सर्जित विकिरण की आवृत्ति को $\frac{e^2}{8\pi\epsilon_0 h} \left(\frac{1}{r_1} - \frac{1}{r_n} \right)$ से व्यक्त किया जा सकता है।
- (D) इलेक्ट्रॉन की कुल ऊर्जा में परिवर्तन के परिमाण को $\frac{h}{2\pi} \left| \frac{v_1}{r_1} - \frac{nv_n}{r_n} \right|$ से व्यक्त किया जा सकता है।

उत्तर (A, C)

6. एक कण को बिंदु O से क्षैतिज समतल से, चित्रानुसार, θ कोण बनाते हुए v चाल से इस प्रकार प्रक्षेपित किया जाता है कि कण बिंदु P , जिसकी समतल से ऊंचाई 1 m एवं O से क्षैतिज दूरी 5 m है, से होकर गुजरता है। यदि गुरुत्वीय त्वरण का मान $g \text{ ms}^{-2}$ है, तो निम्न में से सही कथन है/हैं:



- (A) यदि $\theta = 45^\circ$, तो $v = \frac{5\sqrt{g}}{2} \text{ ms}^{-1}$ होगा।
- (B) यदि $\theta = 45^\circ$, तो कण बिंदु P पर पहुँचने से पहले प्रक्षेप्य पथ की अधिकतम ऊंचाई पर पहुँचेगा।
- (C) यदि $\theta = 30^\circ$ तो कण बिंदु P पर पहुँचने के बाद प्रक्षेप्य पथ की अधिकतम ऊंचाई पर पहुँचेगा।
- (D) यदि $\theta = \tan^{-1}\left(\frac{1}{5}\right)$ है, तो $v = 125\sqrt{g} \text{ ms}^{-1}$ होगा।

उत्तर (A, B)

1

out of

2

Aakashians*

Qualified for JEE (Adv.) 2026

AIR 93

Piyush Chahal
1 Year Champion

AIR 57

Subham K Agarwal
1 Year Champion

AIR 43

Adarsh Kumar Bhatia
2 Year Champion

AIR 27

Vikram Khanna
1 Year Champion

AIR 11

Yash Wardhan
2 Year Overall Topper

AIR 31

Ansh P
1 Year Champion

AIR 55

Karish Choudhary
1 Year Overall Topper

AIR 68

Aman Gupta
1 Year Champion

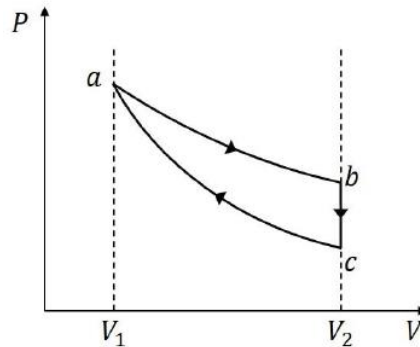
AIR 94

Adil C Pradhan
1 Year Champion

37 YEARS OF CONTINUOUS SUCCESS

7. एक-परमाण्विक आदर्श गैस का एक स्थैतिककल्प (quasi-static) चक्र क्रमशः एक समतापीय प्रक्रम (**ab**), समआयातनिक प्रक्रम (**bc**) एवं रुद्धोष्म प्रक्रम (**ca**) से चित्रानुसार पूरा होता है। **a** तथा **b** पर गैस का आयतन क्रमशः V_1 और V_2 है। यदि चक्र की निवेशी (input) ऊष्मा Q_{in} एवं निर्गत (output) ऊष्मा Q_{out} है, तो चक्र की दक्षता $\eta = \frac{Q_{in} - Q_{out}}{Q_{in}}$ से परिभाषित की जाती है। निम्न में से सही कथन है/हैं:

[दिया है: $\ln 2 \approx 0.7$]



- (A) यदि $V_2/V_1 = 8$, तो **bc** प्रक्रम में निष्काशित ऊष्मा **ab** प्रक्रम में अवशोषित ऊष्मा से कम है।
 (B) V_2/V_1 के दिए गए मान के लिए η का मान समतापीय प्रक्रम के तापमान पर निर्भर नहीं करता है।
 (C) यदि $V_2/V_1 = 8$, तो **a** पर गैस का तापमान **c** पर गैस के तापमान का 4 गुना है।
 (D) यदि $V_2/V_1 = 8$, तो **a** पर गैस का दाब **b** पर गैस के दाब का 4 गुना है।

उत्तर (A, B, C)

8. निर्वात में चलती हुई एक विद्युतचुम्बकीय तरंग से सम्बद्ध वैद्युत क्षेत्र को $E_0 \sin(3y + 4z + \omega t) \hat{i}$ से व्यक्त किया जाता है, जहाँ ω कोणीय आवृत्ति है। इस तरंग से सम्बन्धित सही कथन है/हैं [दिया है: निर्वात में प्रकाश की चाल $c = 3 \times 10^8 \text{ ms}^{-1}$]

- (A) तरंग $-\frac{1}{5}(3\hat{j} + 4\hat{k})$ दिशा में चल रही है।
 (B) तरंग सदिश (wave vector) का परिमाण 0.5 m^{-1} है।
 (C) ω का मान $1.5 \times 10^9 \text{ rad s}^{-1}$ है।
 (D) तरंग से सम्बद्ध चुम्बकीय क्षेत्र $\frac{E_0}{c} \sin(3y + 4z + \omega t)(4\hat{j} - 3\hat{k})$ है।

उत्तर (A, C)

1

out of 2

Aakashians*

Qualified for JEE (Adv.) 2026

AIR 93	AIR 57	AIR 43	AIR 27	AIR 11	AIR 31	AIR 55	AIR 68	AIR 94
Prayansh Shukla	Sudhanshu K. Agarwal	Adarsh Kumar Sharma	Vishwanath Khanna	Yash Wardhan	Ashish P.	Rishabh Choudhary	Aarav Gupta	Sarthak C. Pradhan
1 Year Olympian	1 Year Olympian	2 Year Olympian	1 Year Olympian	2 Year Olympian	1 Year Olympian	1 Year Olympian	1 Year Olympian	1 Year Olympian

37 YEARS OF CONTINUOUS SUCCESS

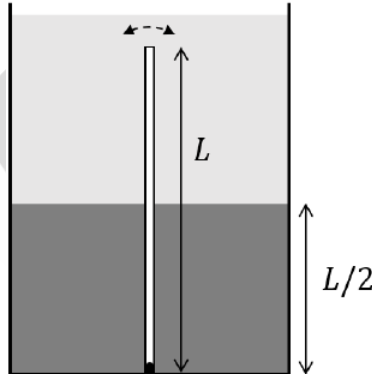
खंड 3 (अधिकतम अंक : 16)

- इस खंड में चार (04) प्रश्न हैं।
- प्रत्येक प्रश्न का उत्तर एक संख्यात्मक मान (NUMERICAL VALUE) है।
- प्रत्येक प्रश्न के उत्तर से संबंधित सही संख्यात्मक मान को माउस (MOUSE) और ऑन-स्क्रीन (ON-SCREEN) वर्चुअल न्यूमेरिक कीपैड (VIRTUAL NUMERIC KEYPAD) के प्रयोग से उत्तर के लिए चिन्हित स्थान पर प्रविष्ट करें।
- यदि संख्यात्मक मान में दो से अधिक दशमलव स्थान हैं, तो मान को दो (02) दशमलव स्थानों तक समेटें/शून्यांत (TRUNCATE/ROUND-OFF) करें।
- प्रत्येक प्रश्न के उत्तर का मूल्यांकन निम्न योजना के अनुसार होगा :

पूर्ण अंक : +4 यदि निर्दिष्ट स्थान पर केवल सही संख्यात्मक मान प्रविष्ट किया गया है।

शून्य अंक : 0 अन्य सभी परिस्थितियों में।

9. एक टैंक घनत्व 6ρ और 2ρ के दो अमिश्रणीय द्रवों से भरा है। अधिक घनत्व का द्रव तली से $L/2$ ऊंचाई तक भरा है। टैंक में घनत्व और L लम्बाई की एक पतली छड़ पूर्णतया डूबी हुई है जिसे टैंक की तली पर इस प्रकार सम्बद्ध किया गया है कि छड़ चित्रानुसार दोलन करने के लिए स्वतंत्र है। यदि छड़ को उसकी साम्यावस्था से अल्प रूप से विचलित किया जाता है तो अल्प दोलन का दोलन काल $\frac{2\pi}{n} \sqrt{\frac{L}{g}}$ है, जहाँ g गुरुत्वीय-त्वरण है। n का मान है:



उत्तर (01.73)

1 out of 2

Aakashians*

Qualified for JEE (Adv.) 2026

AIR 93

R. Piyush Chakrabarti
1 Year Classmate

AIR 57

Sudhanshu K. Agarwal
1 Year Classmate

AIR 43

Adarsh Kumar Bhatnagar
2 Year Classmate

AIR 27

Utkarsh Prakash
1 Year Classmate

AIR 11

Rajasthan Topper

AIR 31

Anshu P.
1 Year Classmate

AIR 55

Rishabh Choudhary
1 Year Classmate

AIR 68

Aman Gupta
1 Year Classmate

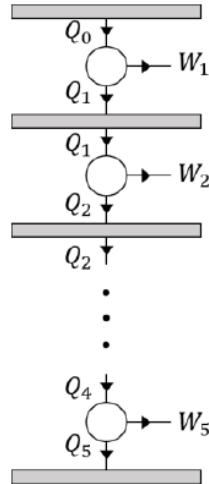
AIR 94

Sanku C. Pradhan
1 Year Classmate

37 YEARS OF CONTINUOUS SUCCESS

10. समान दक्षता η एवं इकाई समय में समान चक्र पूर्ण करने वाले पांच कार्नी (Carnot) इंजन छः उष्माशयों (heat reservoirs) के मध्य चित्रानुसार संचालित हो रहे हैं। एक इंजन के द्वारा प्रत्येक चक्र में मुक्त की गयी ऊष्मा अगले इंजन द्वारा पूरी तरह अवशोषित कर ली जाती है। यदि पहले इंजन द्वारा प्रति-चक्र अवशोषित ऊष्मा Q_0 है एवं सभी इंजनों के द्वारा प्रति-चक्र किया गया कुल कार्य W है तो इस निकाय की कुल दक्षता

$$\eta_{\text{net}} = \frac{W}{Q_0} = \frac{211}{243} \text{ पाई जाती है। } \eta \text{ का मान है:}$$

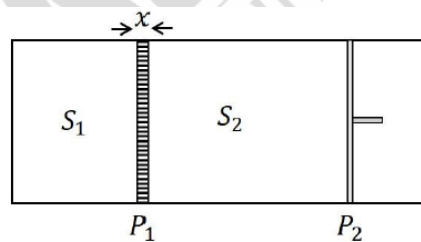


उत्तर (00.33)

11. एक कुचालक पात्र में एक ऊष्मा-संचालक अचल-विभाजक (P_1) तथा एक ऊष्मा-कुचालक मुक्त-चल (freely movable) पिस्टन (P_2) को चित्रानुसार लगाया गया है। विभाजक P_1 , जिसकी ऊष्मा चालकता K , अनुप्रस्थ-काट का क्षेत्रफल A और चौड़ाई x है, पात्र को दो भागों S_1 तथा S_2 में विभाजित करता है। प्रत्येक भाग में एक मोल एक-परमाणविक गैस भरी गयी है। पिस्टन P_2 इस प्रकार गति करने के लिए स्वतंत्र है कि भाग S_2 में गैस का दाब सदैव वायुमंडल के दाब के बराबर रहता है। प्रारंभ में दोनों भागों S_1 तथा S_2 के तापमानों का अन्तर DT_0 है। तापमानों के अन्तर

$\frac{\Delta T_0}{2}$ होने में $n x R / KA$ समय लगता है, जहाँ R सार्वत्रिक गैस नियतांक है। n का मान है:

[दिया है: $\ln 2 \approx 0.7$]



उत्तर (00.66)

1 out of 2

Aakashians*

Qualified for JEE (Adv.) 2026

AIR 93

Rishabh Chandra

AIR 57

Sudhanshu K. Agarwal

AIR 43

Adarsh Kumar Bhatia

AIR 27

Utkarsh Prakash

AIR 11

Rajasthan Topper

AIR 31

Anshu P.

AIR 55

Rishabh Choudhary

AIR 68

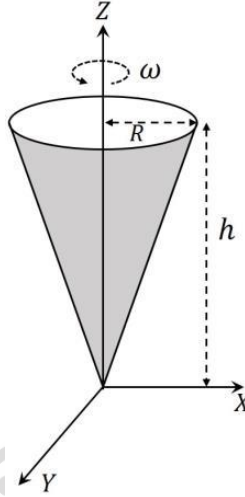
Aman Gupta

AIR 94

Sanku C. Pradhan

37 YEARS OF CONTINUOUS SUCCESS

12. एक R आधार-त्रिज्या एवं h ऊँचाई वाला खोखला लम्ब-वृत्तीय शंकु, जिसका शीर्ष मूल-बिंदु पर है, चित्रानुसार Z -अक्ष के परितः ω कोणीय वेग से घूर्णन कर रहा है। शंकु के वक्र-पृष्ठ पर कुल आवेश Q एक समान रूप से वितरित है। किसी बिंदु $(0,0,z)$, जहाँ $z \gg R$ एवं $z \gg h$ है, पर चुम्बकीय क्षेत्र का परिमाण $\frac{n\mu_0 QR^2\omega}{4\pi z^3}$ है। n का मान है:



उत्तर (00.50)

खंड 4 (अधिकतम अंक : 16)

- इस खंड में चार (04) सूची-सुमेलन (Matching List) सेट्स (sets) हैं।
- प्रत्येक सूची-सुमेलन सेट में एक (01) एकाधिक विकल्प प्रश्न (Multiple Choice Question) है।
- प्रत्येक सूची-सुमेलन सेट में दो सूचियाँ हैं: सूची-I और सूची-II।
- सूची-I में चार (04) प्रविष्टियाँ (P), (Q), (R) और (S) हैं एवं सूची-II में पाँच (05) प्रविष्टियाँ (1), (2), (3), (4) और (5) हैं।
- प्रत्येक एकाधिक विकल्प प्रश्न में सूची-I और सूची-II पर आधारित चार विकल्प दिए गए हैं और इन विकल्पों में से केवल एक विकल्प ही एकाधिक विकल्प प्रश्न की शर्त पूरा करता है।
- प्रत्येक प्रश्न के उत्तर का मूल्यांकन निम्न योजना के अनुसार होगा :

पूर्ण अंक : +4 यदि सिर्फ सही विकल्प को ही चुना गया है।

शून्य अंक : 0 यदि कोई भी विकल्प नहीं चुना गया है (अर्थात् प्रश्न अनुत्तरित है)।

ऋण अंक : -1 अन्य सभी परिस्थितियों में।

1

out of

2

Aakashians*

Qualified for JEE (Adv.) 2026

AIR 93

Rishabh Chandra

AIR 57

Sudhanshu K Agarwal

AIR 43

Adarsh Kumar Bhatnagar

AIR 27

Uttar Pradesh Topper

AIR 11

Rajasthan Topper

AIR 31

Anshu P

AIR 55

Rishabh Chandra

AIR 68

Aman Gupta

AIR 94

Sanku C Pradhan

37 YEARS OF CONTINUOUS SUCCESS

13. List-I में सीधी एवं अर्ध-वृत्ताकार पतली वायु-युक्त नलिकाओं से बनी चार संरचनाएं दर्शायी गयी हैं। इन संरचनाओं में बिंदु S पर $\lambda = 0.29$ m तरंग दैर्घ्य का एक ध्वनि स्रोत एवं बिंदु D पर एक ध्वनि-संसूचक रखा गया है। ध्वनि, बिंदु S से बिंदु D तक केवल नलिकाओं से होकर पहुँचती है। List-II में l के उस न्यूनतम संभव मान को रखा गया है जिसके लिए संसूचक प्रत्येक संरचना में ध्वनि की अधिकतम तीव्रता संसूचित करता है। तीक्ष्ण किनारों के प्रभाव की उपेक्षा कीजिये। [दिया गया है: $\cos(15^\circ) = 0.97$]

List-I एवं List-II के निकटतम सही मिलान को दिखाने वाले विकल्प को चुनिए।

	List-I		List-II
(P)		(1)	1.32 m
(Q)		(2)	1.19 m
(R)		(3)	0.51 m
(S)		(4)	0.29 m
		(5)	0.13 m

(A) (P) → (4) (Q) → (3) (R) → (5) (S) → (1)

(B) (P) → (4) (Q) → (3) (R) → (1) (S) → (5)

(C) (P) → (3) (Q) → (4) (R) → (1) (S) → (2)

(D) (P) → (3) (Q) → (4) (R) → (5) (S) → (2)

उत्तर (D)

1 out of 2

Aakashians*

Qualified for JEE (Adv.) 2026

© Piyush Chandra
Sudhanshu K. Agarwal
Adarsh Kumar Bhatnagar
Vishakh Khanna
Yash Wardhan
Ashish P.
Kartik Choudhary
Aman Gupta
Sanku C. Pradhan

37 YEARS OF CONTINUOUS SUCCESS

14. List-I में चार प्रकाशीय घटनाएँ उल्लिखित हैं। List-II में इन प्रकाशीय घटनाओं को समझाने के लिए आवश्यक भौतिकीय प्रभाव दिए गए हैं। List-I एवं List-II की प्रविष्टियों के सही मिलान को दिखाने वाले विकल्प को चुनिए।

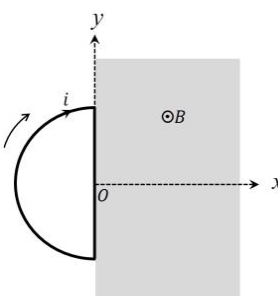
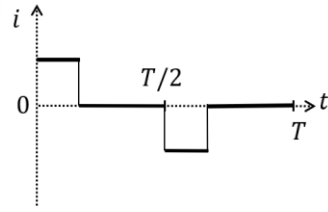
List-I	List-II
(P) उत्तर-ध्रुवीय क्षेत्र में रंगीन आकाश (उत्तर ध्रुवीय ज्योति)	(1) वर्ण-विक्षेपण एवं परावर्तन
(Q) सूर्य के प्रकाश का आंशिक ध्रुवण	(2) पूर्ण आंतरिक परावर्तन
(R) इन्द्रधनुष	(3) विवर्तन
(S) अदीप्त एवं दीप्त फ्रिजें	(4) वायुमंडल के अणुओं द्वारा प्रकाश का प्रकीर्णन
	(5) आवेशित कणों द्वारा उत्तेजित ऑक्सीजन एवं नाइट्रोजन परमाणुओं से विकिरण का उत्सर्जन

- (A) (P) → (5) (Q) → (4) (R) → (1) (S) → (3)
 (B) (P) → (4) (Q) → (2) (R) → (1) (S) → (3)
 (C) (P) → (4) (Q) → (1) (R) → (2) (S) → (3)
 (D) (P) → (5) (Q) → (4) (R) → (1) (S) → (2)

उत्तर (A)

15. List-I में XY तल में स्थित 4 चालक लूप चित्र द्वारा दर्शाए गए हैं। सभी लूप बिंदु O से होकर जाने वाली Z अक्ष के परितः T आवर्तकाल से दक्षिणावर्त (clockwise) घूम रहे हैं। क्षेत्र $x > 0$ में +z दिशा में एक एकसमान चुम्बकीय क्षेत्र B लगाया गया है। List-II में इन लूपों में चुम्बकीय क्षेत्र द्वारा प्रेरित विद्युत् धारा $i(t)$ को गुणात्मक रूप से दिखाया गया है।

List-I एवं List-II की प्रविष्टियों के सही मिलान को दिखाने वाले विकल्प को चुनिए।

List-I	List-II
(P) 	(1) 

1 out of 2

Aakashians*

Qualified for JEE (Adv.) 2026



AIR 93: Piyush Shukla (Topper) | AIR 57: Sahil K. Agarwal (Topper) | AIR 43: Adarsh Kumar Bhatia (Topper) | AIR 27: Utkar Prakash Topper | AIR 11: Rajasthan Topper | AIR 31: Anshu P. (Topper) | AIR 55: Karish Choudhary (Topper) | AIR 68: Aman Gupta (Topper) | AIR 94: Adil C. Pradhan (Topper)

© Piyush Shukla (Topper) | Sahil K. Agarwal (Topper) | Adarsh Kumar Bhatia (Topper) | Utkar Prakash (Topper) | Anshu P. (Topper) | Karish Choudhary (Topper) | Aman Gupta (Topper) | Adil C. Pradhan (Topper)

37 YEARS OF CONTINUOUS SUCCESS

(Q)		(2)	
(R)		(3)	
(S)		(4)	
		(5)	

- (A) (P) → (5) (Q) → (4) (R) → (1) (S) → (3)
 (B) (P) → (3) (Q) → (2) (R) → (5) (S) → (4)
 (C) (P) → (3) (Q) → (2) (R) → (1) (S) → (4)
 (D) (P) → (5) (Q) → (1) (R) → (2) (S) → (3)

उत्तर (C)

1 out of 2

Aakashians*

Qualified for JEE (Adv.) 2026

AIR 93	AIR 57	AIR 43	AIR 27	AIR 11	AIR 31	AIR 55	AIR 68	AIR 94
Prayansh Shukla	Sudhanshu K. Agarwal	Adarsh Kumar Sharma	Vishwanath Sharma	Yashvardhan	Ashish P.	Rishabh Choudhary	Aman Singh	Sanku C. Pradhan
1 Year Olympiad	1 Year Olympiad	2 Year Olympiad	1 Year Olympiad	1 Year Olympiad	1 Year Olympiad	1 Year Olympiad	1 Year Olympiad	1 Year Olympiad

37 YEARS OF CONTINUOUS SUCCESS

16. List-I में m द्रव्यमान एवं l लंबाई की एकसमान ठोस छड़ों से बनी हुई चार समतल संरचनाएं दर्शायी गयीं हैं। List-II में इन संरचनाओं के अक्ष OCO' , जो कि संरचना के तल में है, के परितः संभावित जड़त्व- आघूर्ण दिए गए हैं। List-I एवं List-II की प्रविष्टियों के सही मिलान को दिखाने वाले विकल्प को चुनिए।

	List-I		List-II
(P)		(1)	$\frac{5}{4} ml^2$
(Q)		(2)	$\frac{1}{6} ml^2$
(R)		(3)	$\frac{1}{12} ml^2$
(S)		(4)	$\frac{2}{3} ml^2$
		(5)	$\frac{1}{3} ml^2$

(A) (P) → (5) (Q) → (1) (R) → (4) (S) → (2)

(B) (P) → (1) (Q) → (3) (R) → (4) (S) → (2)

(C) (P) → (5) (Q) → (3) (R) → (2) (S) → (1)

(D) (P) → (5) (Q) → (4) (R) → (2) (S) → (1)

उत्तर (A)

1 out of 2

Aakashians*

Qualified for JEE (Adv.) 2026

AIR 93

Piyush Shukla
1 Year Classroom

AIR 57

Sahil K Agarwal
1 Year Classroom

AIR 43

Adarsh Kumar Bhatia
2 Year Classroom

AIR 27

Vikram Khanna
1 Year Classroom

AIR 11

Yash Wardhan
1 Year Classroom

AIR 31

Ansh P
1 Year Classroom

AIR 55

Karish Choudhary
1 Year Classroom

AIR 68

Aman Gupta
1 Year Classroom

AIR 94

Sahil C Pradhan
1 Year Classroom

37 YEARS OF CONTINUOUS SUCCESS

PART-III : CHEMISTRY

खंड 1 (अधिकतम अंक : 12)

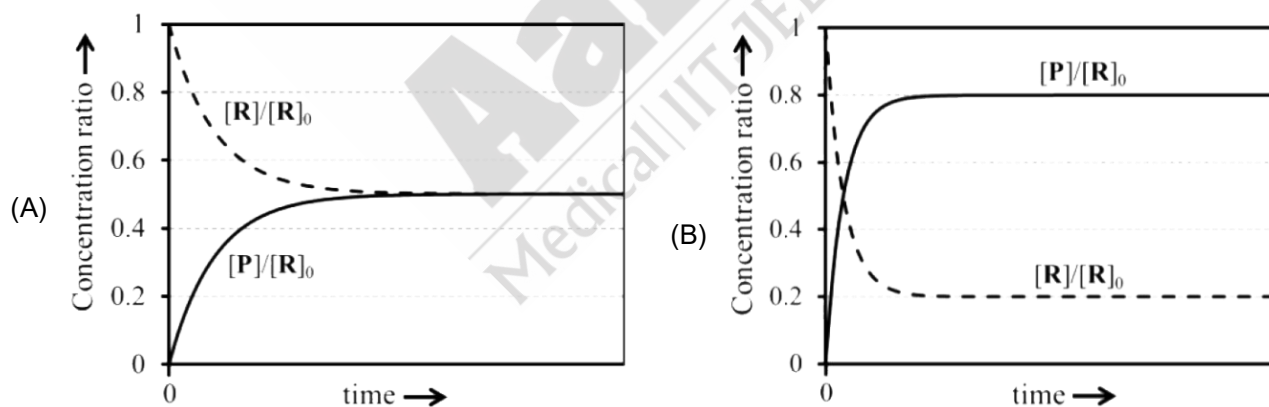
- इस खंड में चार (04) प्रश्न हैं।
- प्रत्येक प्रश्न के लिए चार विकल्प (A), (B), (C) और (D) दिए गए हैं। इन चार विकल्पों में से केवल एक विकल्प ही सही उत्तर है।
- प्रत्येक प्रश्न के लिए दिए हुए विकल्पों में से सही उत्तर से संबंधित विकल्प को चुनिए।
- प्रत्येक प्रश्न के उत्तर का मूल्यांकन निम्न योजना के अनुसार होगा :
 पूर्ण अंक : +3 यदि सिर्फ सही विकल्प ही चुना गया है।
 शून्य अंक : 0 यदि कोई भी विकल्प नहीं चुना गया है (अर्थात् प्रश्न अनुत्तरित है)।
 ऋण अंक : -1 अन्य सभी परिस्थितियों में

1. एक आदर्श गैस (0.5 मोल), जो आरम्भ में 2 bar दाब पर है, को 600 K स्थिर तापमान पर दो चरणों में संपीड़ित (compressed) किया जाता है – पहले एक स्थिर बाह्य दाब Pbar ($2 < P < 8$) के विरुद्ध, और फिर स्थिर बाह्य दाब 8 bar के विरुद्ध। प्रत्येक चरण में गैस का दाब जब बाह्य दाब के बराबर हो जाता है, तब ही संपीड़न को रोका जाता है। इन चरणों में गैस पर किया गया कुल कार्य W है। $P(2 < P < 8)$ के सभी संभव मान पर विचार करते हुए एवं गैस नियतांक (gas constant) को R ($J K^{-1} mol^{-1}$) में लेते हुए, |W| का न्यूनतम मान (J में) है।

- (A) 207R (B) 600R
(C) 630R (D) 900R

उत्तर (B)

2. एक उत्क्रमणीय (reversible) अभिक्रिया $R \rightleftharpoons P$ के लिये, स्थिर (constant) ताप पर, अग्रगामी और पश्चगामी अभिक्रियाएँ दोनों प्रथम कोटि की मूलभूत (elementary) अभिक्रियाएँ हैं, जिनके वेग स्थिरांक (rate constants) क्रमशः k_f और k_b हैं। शून्य समय पर, R की सांद्रता (concentration) $[R]_0$ है तथा P की सांद्रता शून्य है। किसी दिये समय पर, R और P की सांद्रताएँ क्रमशः $[R]$ और $[P]$ हैं। यदि $k_b = 4k_f$ है, इस अभिक्रिया का सही आलेखी निरूपण (graphical representation) है।



1 out of 2

Aakashians*

Qualified for JEE (Adv.) 2026

AIR 93



Rajesh Shukla
1 Year, Cochin

AIR 57



Sudhanshu K Agarwal
1 Year, Cochin

AIR 43



Adarsh Kumar Sharma
2 Year, Cochin

AIR 27



Vishnu Khanna
1 Year, Cochin

AIR 11



Rajasthan Topper
1 Year, Cochin

AIR 31



Yash Wardhan
1 Year, Cochin

AIR 55



Anshu P
1 Year, Cochin

AIR 68



Sonal Chavhan
1 Year, Cochin

AIR 94



Arun Singh
1 Year, Cochin

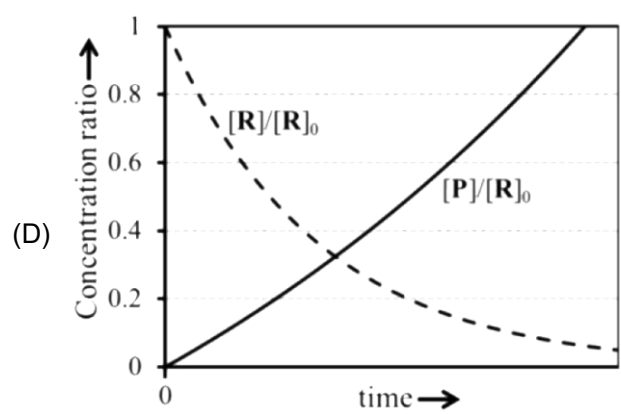
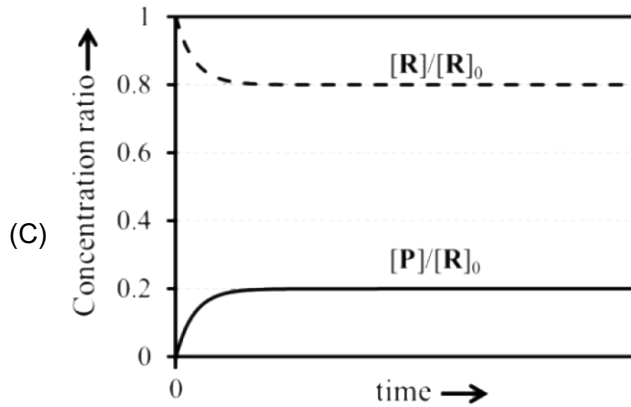
AIR 94



Sidd C Pradhan
2 Year, Cochin

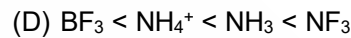
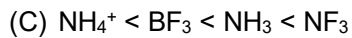
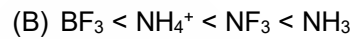
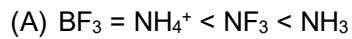
37 YEARS OF CONTINUOUS SUCCESS

*As per the records till Nov 2025, based on JEE Advanced results.



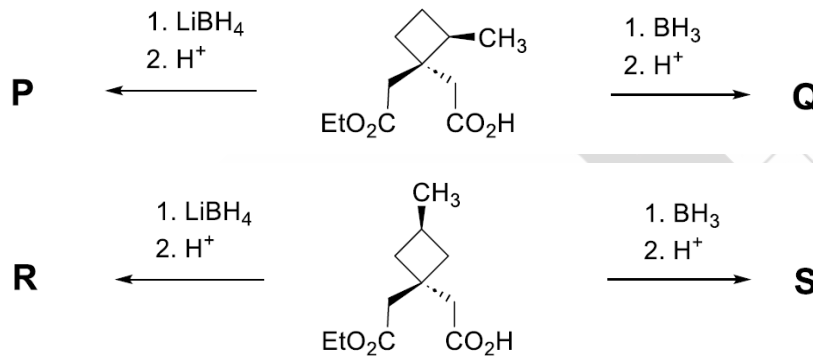
उत्तर (C)

3. दिये हुए स्पीशीज़ के द्विध्रुव आघूर्णों (dipole moments) का सही क्रम है



उत्तर (A)

4. मानते हुए कि LiBH_4 एस्टर समूह को संगत ऐल्कोहॉल में अपचयन (reduce) करता है तथा कार्बोक्सिलिक अम्ल समूह का अपचयन नहीं करता है, प्रमुख उत्पादों **P**, **Q**, **R** तथा **S** के बारे में उचित कथन है



(A) **P** और **Q** समान हैं, तथा **R** और **S** डायस्टीरियोमर (diastereomers) हैं।

(B) **P** और **Q** डायस्टीरियोमर (diastereomers) हैं, तथा **R** और **S** समान हैं।

(C) **P** और **Q** डायस्टीरियोमर (diastereomers) हैं, तथा **R** और **S** डायस्टीरियोमर (diastereomers) हैं।

(D) **P** और **Q** समान हैं, तथा **R** और **S** समान हैं।

उत्तर (C)

1 out of 2

Aakashians*

Qualified for JEE (Adv.) 2026

AIR 93

Rajesh Shukla
1 Year Classroom

AIR 57

Sahil K Agarwal
1 Year Classroom

AIR 43

Adarsh Kumar Sharma
2 Year Classroom

AIR 27

Vikash Shukla
1 Year Classroom

AIR 11

Rajasthan Topper
1 Year Classroom

AIR 31

Yash Wardhan
1 Year Classroom

AIR 55

Anshu P
1 Year Classroom

AIR 68

Karan Chavhan
1 Year Classroom

AIR 94

Arun Singh
1 Year Classroom

AIR 94

Sand C Pradhan
2 Year Classroom

37 YEARS OF CONTINUOUS SUCCESS

खंड 2 (अधिकतम अंक : 16)

- इस खंड में चार (04) प्रश्न हैं।
- प्रत्येक प्रश्न के लिए चार विकल्प (A), (B), (C) और (D) दिए गए हैं। इन चार विकल्पों में से एक या एक से अधिक विकल्प सही उत्तर है (हैं)।
- प्रत्येक प्रश्न के लिए दिए हुए विकल्पों में से सही उत्तर (उत्तरों) से संबंधित विकल्प (विकल्पों) को चुनिए।
- प्रत्येक प्रश्न के उत्तर का मूल्यांकन निम्न योजना के अनुसार होगा :

पूर्ण अंक : +4 यदि केवल (सारे) सही विकल्प (विकल्पों) को चुना गया है।

आंशिक अंक : +3 यदि चारों विकल्प सही हैं परन्तु केवल तीन विकल्पों को चुना गया है।

आंशिक अंक : +2 यदि तीन या तीन से अधिक विकल्प सही हैं परन्तु केवल दो विकल्पों को चुना गया है और दोनों चुने हुए विकल्प सही विकल्प हैं।

आंशिक अंक : +1 यदि दो या दो से अधिक विकल्प सही हैं परन्तु केवल एक विकल्प को चुना गया है और चुना हुआ विकल्प एक सही विकल्प है।

शून्य अंक : 0 यदि किसी भी विकल्प को नहीं चुना गया है (अर्थात् प्रश्न अनुत्तरित है)।

ऋण अंक : -1 अन्य सभी परिस्थितियों में।

5. हाइड्रोजन परमाणु के 2s और 2p कक्षकों की उर्जा क्रमशः $E_{2s}(\text{H})$ और $E_{2p}(\text{H})$ है। लीथियम परमाणु के 2s और 2p कक्षकों की उर्जा क्रमशः $E_{2s}(\text{Li})$ और $E_{2p}(\text{Li})$ है। कक्षक उर्जाओं (orbital energies) के सन्दर्भ में सही विकल्प है(हैं)

(A) $E_{2s}(\text{Li}) < E_{2p}(\text{Li})$

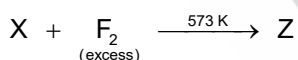
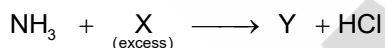
(B) $E_{2s}(\text{H}) = E_{2p}(\text{H})$

(C) $E_{2p}(\text{H}) < E_{2s}(\text{Li})$

(D) $E_{2s}(\text{H}) > E_{2s}(\text{Li})$

उत्तर (A, B, D)

6. यौगिकों X, Y तथा Z के बारे में उचित कथन है(हैं)



(Conc.: सान्द्र ; Greenish yellow gas: हरित पीली गैस ; Excess: आधिक्य)

- (A) X पीने के पानी को निर्जीव (sterilize) करने में उपयोग होता है।
 (B) Y एक समतली संरचना (planar structure) रखता है।
 (C) ^{235}U के संवर्धन (enrichment) में Z का उपयोग होता है।
 (D) Y अमोनिया से अधिक प्रबल लुईस क्षारक (Lewis base) है।

उत्तर (A, C)

1

out of 2

Aakashians*

Qualified for JEE (Adv.) 2026



AIR 93 | AIR 57 | AIR 43 | AIR 27 | AIR 11 | AIR 31 | AIR 55 | AIR 68 | AIR 94
 Rajasthan Topper | Uttar Pradesh Topper

Rajesh Shukla
1 Year Classroom

Sudhanshu K. Agarwal
1 Year Classroom

Adarsh Kumar Sharma
2 Year Classroom

Vishal Shukla
1 Year Classroom

Yash Wardhan
1 Year Classroom

Ashu P
1 Year Classroom

Rishabh Choudhary
1 Year Classroom

Arun Singh
1 Year Classroom

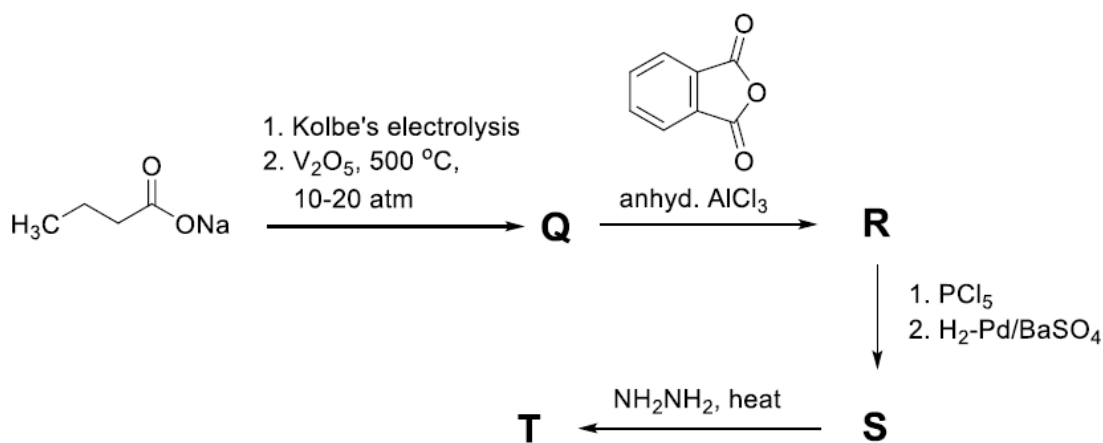
Siddh C. Prasad
2 Year Classroom

37 YEARS OF CONTINUOUS SUCCESS

7. ऑक्सीजन (O₂) गैस के साथ PtF₆ की अभिक्रिया से एक आयनिक यौगिक, X⁺Y⁻ निर्मित होता है। सही कथन है(हैं)
- (A) X⁺ की आबंध कोटी (bond order) 1.5 है।
 (B) X⁺Y⁻ में धातु आयन के संयोजक *d*-कक्षकों में 5 इलेक्ट्रॉन हैं।
 (C) इस अभिक्रिया में PtF₆ एक ऑक्सीकारक (oxidant) का काम करता है।
 (D) इस अभिक्रिया में PtF₆ एक फ्लूओरीनीकरण (fluorinating) कर्मक का काम करता है।

उत्तर (B, C)

8. निम्नलिखित अभिक्रिया अनुक्रम में, Q, R, S तथा T प्रमुख उत्पाद हैं।



(Kolbe's electrolysis: कोल्बे विद्युत अपघटन; anhyd.: निर्जल; heat: ताप)

Q, R, S तथा T के लिए सही कथन है (हैं)

- (A) S को अमोनिकल (ammoniacal) AgNO₃ के साथ गर्म करने पर सिल्वर दर्पण (silver mirror) मिलता है।
 (B) Q को Cl₂ (आधिक्य)/UV से उपचारित करने से गैमेक्सीन (gammaxane) मिलता है।
 (C) T एक हेटरोसाइकलिक (heterocyclic) यौगिक है।
 (D) R अम्ल उत्प्रेरित (acid catalyzed) अंतरा आणविक चक्रीकरण (intramolecular cyclization) के उपरांत Zn-Hg/HCl से उपचारित करने पर 9,10-डाइहाइड्रोअंथ्रासीन (9,10-dihydroxyanthracene) देता है।

उत्तर (A, B, C)

1 out of 2 Aakashians*
Qualified for JEE (Adv.) 2026

37 YEARS OF CONTINUOUS SUCCESS

AIR 93	AIR 57	AIR 43	AIR 27	AIR 11	AIR 31	AIR 55	AIR 68	AIR 94
Rajesh Khosla	Sudhanshu K. Agarwal	Akash Kumar Sharma	Vishal Khosla	Yash Wadhvani	Ashish P.	Rishabh Chavhan	Arun Gupta	Siddhant C. Prasad
1 Year, Odisha	1 Year, Odisha	2 Year, Odisha	1 Year, Odisha	1 Year, Odisha	1 Year, Odisha	1 Year, Odisha	1 Year, Odisha	2 Year, Odisha

खंड 3 (अधिकतम अंक : 16)

- इस खंड में चार (04) प्रश्न हैं।
- प्रत्येक प्रश्न का उत्तर एक संख्यात्मक मान (NUMERICAL VALUE) है।
- प्रत्येक प्रश्न के उत्तर से संबंधित सही संख्यात्मक मान को माउस (MOUSE) और ऑन-स्क्रीन (ON-SCREEN) वर्चुअल न्यूमेरिक कीपैड (VIRTUAL NUMERIC KEYPAD) के प्रयोग से उत्तर के लिए चिन्हित स्थान पर प्रविष्ट करें।
- यदि संख्यात्मक मान में दो से अधिक दशमलव स्थान हैं, तो मान को दो (02) दशमलव स्थानों तक समेटें/शून्यांत (TRUNCATE/ROUND-OFF) करें।
- प्रत्येक प्रश्न के उत्तर का मूल्यांकन निम्न योजना के अनुसार होगा :
पूर्ण अंक : +4 यदि निर्दिष्ट स्थान पर केवल सही संख्यात्मक मान प्रविष्ट किया गया है।
शून्य अंक : 0 अन्य सभी परिस्थितियों में।

9. दो सिलिंडरों को, जो दोनों घर्षणहीन पिस्टन से सन्नहित (fitted) हैं, He और Ar गैस के मिश्रणों से भरा गया है। प्रथम सिलिंडर में He और Ar के द्रव्यमान क्रमशः m_1 और m_2 हैं। द्वितीय सिलिंडर में He और Ar के द्रव्यमान क्रमशः m_2 और m_1 हैं। Ar का मोलर द्रव्यमान He के मोलर द्रव्यमान का 10 गुणा है। समान तापमान पर, गैसों के मिश्रणों का आयतन दोनों सिलिंडरों में बराबर रखने के लिये, प्रथम सिलिंडर के पिस्टन द्वारा प्रयुक्त दाब दूसरे सिलिंडर के पिस्टन द्वारा प्रयुक्त दाब का 5 गुणा होना चाहिए। मानते हुए कि He और Ar आदर्श गैस की तरह व्यवहार करती हैं, (m_1/m_2) का मान है।

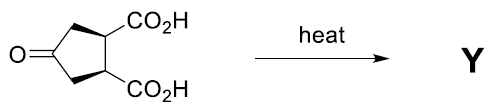
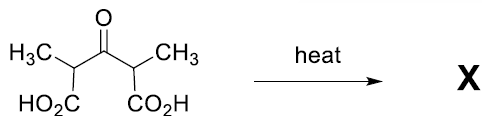
उत्तर (09.80)

10. सूत्र $K[M(NCS)(NO_2)(gly)]$ वाले वर्ग समतली संकुल (square planar complex) के लिये सभी संभावित समावयवों की कुल संख्या _____ है।

(M = धातु आयन और gly = $NH_2CH_2COO^-$)

उत्तर (08.00)

11. निम्नलिखित अभिक्रियाओं के प्रमुख उत्पादों X और Y में उपस्थित कार्बोनिल समूहों ($>C=O$) की कुल संख्या का योग _____ है।



(heat: ताप)

उत्तर (04.00)

12. ब्यूटा-1,3-डाइआइन (buta-1,3-diyne) को NaNH_2 [2 तुल्य (equivalents)] से उपचारित करने के बाद $\text{trans-CH}_3\text{-CH=CH-CH}_2\text{-Br}$ के आधिक्य से अभिक्रिया करने पर प्रमुख उत्पाद X बनता है। X में सह-रैखिक (collinear) (एक सीधी रेखा में) कार्बन परमाणुओं की अधिकतम संख्या _____ है।

उत्तर (06.00)

1 out of 2

Aakashians*

Qualified for JEE (Adv.) 2026

AIR 93



Rajesh Khosla
1 Year Classroom

AIR 57



Sudhanshu K. Agarwal
1 Year Classroom

AIR 43



Adarsh Kumar Sharma
1 Year Classroom

AIR 27



Vishal Khosla
1 Year Classroom

AIR 11



Rajasthan Topper
1 Year Classroom

AIR 31



Yash Wardhan
1 Year Classroom

AIR 55



Anshu P
1 Year Classroom

AIR 68



Ravi Chavhan
1 Year Classroom

AIR 94



Arun Singh
1 Year Classroom

AIR 94



Sudhanshu K. Agarwal
1 Year Classroom

37 YEARS OF CONTINUOUS SUCCESS

खंड 4 (अधिकतम अंक : 16)

- इस खंड में चार (04) सूची-सुमेलन (Matching List) सेट्स (sets) हैं।
- प्रत्येक सूची-सुमेलन सेट में एक (01) एकाधिक विकल्प प्रश्न (Multiple Choice Question) है।
- प्रत्येक सूची-सुमेलन सेट में दो सूचियाँ हैं: सूची-I और सूची-II।
- सूची-I में चार (04) प्रविष्टियाँ (P), (Q), (R) और (S) हैं एवं सूची-II में पाँच (05) प्रविष्टियाँ (1), (2), (3), (4) और (5) हैं।
- प्रत्येक एकाधिक विकल्प प्रश्न में सूची-I और सूची-II पर आधारित चार विकल्प दिए गए हैं और इन विकल्पों में से केवल एक विकल्प ही एकाधिक विकल्प प्रश्न की शर्त पूरा करता है।
- प्रत्येक प्रश्न के उत्तर का मूल्यांकन निम्न योजना के अनुसार होगा :
पूर्ण अंक : +4 यदि सिर्फ सही विकल्प को ही चुना गया है।
शून्य अंक : 0 यदि कोई भी विकल्प नहीं चुना गया है (अर्थात प्रश्न अनुत्तरित है)।
ऋण अंक : -1 अन्य सभी परिस्थितियों में।

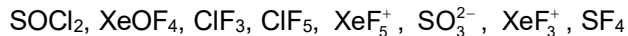
13. सूची-I में विभिन्न भौतिक/रासायनिक उपक्रम हैं, तथा सूची-II में एन्थैल्पी (enthalpy) परिवर्तन (ΔH) और एन्ट्रॉपी (entropy) परिवर्तन (ΔS) के संयोजन हैं। सूची-I की प्रत्येक प्रविष्टि को सूची-II में दी गयी उपयुक्त प्रविष्टि के साथ सुमेल करें, तथा सही विकल्प का चयन करें।

	सूची-I		सूची-II
(P)	भौतिक अधिशोषण (physisorption)	(1)	$\Delta H > 0$ तथा $\Delta S > 0$
(Q)	हीरा (diamond) \rightarrow ग्रेफाइट	(2)	$\Delta H < 0$ तथा $\Delta S < 0$
(R)	प्रोटीन का विकृतीकरण (denaturation)	(3)	$\Delta H < 0$ तथा $\Delta S = 0$
(S)	प्रोपीन \rightarrow साइक्लोप्रोपेन	(4)	$\Delta H > 0$ तथा $\Delta S < 0$
		(5)	$\Delta H < 0$ तथा $\Delta S > 0$

- (A) (P) \rightarrow (2); (Q) \rightarrow (3); (R) \rightarrow (5); (S) \rightarrow (4)
 (B) (P) \rightarrow (4); (Q) \rightarrow (3); (R) \rightarrow (5); (S) \rightarrow (1)
 (C) (P) \rightarrow (2); (Q) \rightarrow (5); (R) \rightarrow (1); (S) \rightarrow (4)
 (D) (P) \rightarrow (2); (Q) \rightarrow (5); (R) \rightarrow (1); (S) \rightarrow (3)

उत्तर (C)

14. निम्नलिखित स्पीशीज पर ध्यान दें :



सूची-I में विभिन्न आण्विक आकृतियाँ हैं तथा सूची-II में दी गयी स्पीशीज में से एक जैसी आण्विक आकृतियों वाली स्पीशीज की कुल संख्या है सूची-I की प्रत्येक प्रविष्टि को सूची-II में दी गयी उपयुक्त प्रविष्टि के साथ सुमेल करें तथा सही विकल्प का चयन करें।

	सूची-I		सूची-II
(P)	ढेंकुली (See-saw)	(1)	एक
(Q)	T-आकृति (T-Shaped)	(2)	दो
(R)	त्रिकोणीय समतली (Trigonal Planar)	(3)	तीन
(S)	वर्ग-पिरामिडी (Square Pyramidal)	(4)	चार
		(5)	शून्य

(A) (P) → (1); (Q) → (2); (R) → (5); (S) → (3)

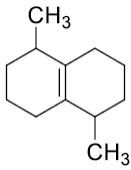
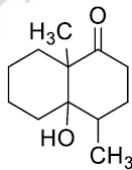
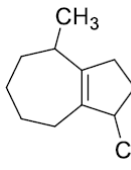
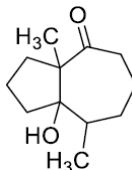
(B) (P) → (5); (Q) → (4); (R) → (2); (S) → (3)

(C) (P) → (3); (Q) → (2); (R) → (1); (S) → (4)

(D) (P) → (1); (Q) → (3); (R) → (5); (S) → (4)

उत्तर (A)

15. सूची-II में दिये गये उत्पाद सूची-I के यौगिक की $\text{O}_3/\text{Zn}-\text{H}_2\text{O}$ से अभिक्रिया के बाद जलीय NaOH की उपस्थिति में चक्रीकरण [अधिक स्थायी ईनॉलेट (enolate) के द्वारा], से उत्पन्न होते हैं। सूची-I की प्रत्येक प्रविष्टि को सूची-II में दी गयी उपयुक्त प्रविष्टि के साथ सुमेल करें तथा सही विकल्प का चयन करें।

	सूची-I		सूची-II
(P)		(1)	
(Q)		(2)	

1 out of 2

Aakashians*

Qualified for JEE (Adv.) 2026

AIR 93



E. Rajesh Khosla
1 Year Classroom

AIR 57



Sahil K. Agarwal
1 Year Classroom

AIR 43



Adarsh Kumar Sharma
2 Year Classroom

AIR 27



Vikram Khosla
1 Year Classroom

AIR 11



Yash Wardhan
1 Year Classroom

AIR 31



Ansh P
1 Year Classroom

AIR 55



Karan Chavhan
1 Year Classroom

AIR 68



Aarav Gupta
1 Year Classroom

AIR 94



Sand C. Prasad
2 Year Classroom

37 YEARS OF CONTINUOUS SUCCESS

(R)		(3)	
(S)		(4)	
		(5)	

(A) (P) → (2); (Q) → (4); (R) → (1); (S) → (3)

(B) (P) → (3); (Q) → (4); (R) → (5); (S) → (2)

(C) (P) → (2); (Q) → (1); (R) → (5); (S) → (3)

(D) (P) → (3); (Q) → (5); (R) → (4); (S) → (2)

उत्तर (C)

16. सूची-I में दी गयी अभिक्रियाओं में उत्पन्न हुए मुख्य उत्पादों को सूची-II के अनुरूप (corresponding) संरचनाओं से सुमेल करें तथा सही विकल्प का चयन करें।

	सूची-I		सूची-II
(P)		(1)	
(Q)		(2)	
(R)		(3)	

1 out of 2

Aakashians*

Qualified for JEE (Adv.) 2026

AIR 93

E. Rajesh Khosla
1 Year Classroom

AIR 57

Sahil K. Agarwal
1 Year Classroom

AIR 43

Adarsh Kumar Sharma
2 Year Classroom

AIR 27

Vikram Khosla
1 Year Classroom

AIR 11

Yash Wardhan
1 Year Classroom

AIR 31

Ansh P.
1 Year Classroom

AIR 55

Karan Chavhan
1 Year Classroom

AIR 68

Aarav Gupta
1 Year Classroom

AIR 94

Sand C. Prasad
2 Year Classroom

37 YEARS OF CONTINUOUS SUCCESS

(S)		(4)	
		(5)	

(aqueous: जलीय)

(A) (P) → (2); (Q) → (1); (R) → (5); (S) → (4)

(B) (P) → (1); (Q) → (2); (R) → (4); (S) → (5)

(C) (P) → (1); (Q) → (2); (R) → (3); (S) → (4)

(D) (P) → (2); (Q) → (1); (R) → (3); (S) → (5)

उत्तर (B)



1 out of 2

Aakashians*

Qualified for JEE (Adv.) 2026

AIR 93	AIR 57	AIR 43	AIR 27	AIR 11	AIR 31	AIR 55	AIR 68	AIR 94
Rajesh Khosla	Sudhanshu K. Agarwal	Akash Kumar Sharma	Vishal Khosla	Yash Wardhan	Ashu P	Rishabh Choudhary	Arun Gupta	Siddh C. Pradhan
1 Year Classroom	1 Year Classroom	2 Year Classroom	1 Year Classroom	1 Year Classroom	1 Year Classroom	1 Year Distance Program	1 Year Classroom	2 Year Classroom

*As per the records till March 2025, based on AIR in Aakash Foundation.

37 YEARS OF CONTINUOUS SUCCESS